



Nombre: _____

Fecha: _____


PAREJAS FANTASMALES

<input type="text"/>	+	<input type="text"/>	= 10	<input type="text"/>	+	<input type="text"/>	= 10
<input type="text"/>	+	<input type="text"/>	= 10	<input type="text"/>	+	<input type="text"/>	= 10
<input type="text"/>	+	<input type="text"/>	= 10	<input type="text"/>	+	<input type="text"/>	= 10
<input type="text"/>	+	<input type="text"/>	= 10	<input type="text"/>	+	<input type="text"/>	= 10
<input type="text"/>	+	<input type="text"/>	= 10	<input type="text"/>	+	<input type="text"/>	= 10
<input type="text"/>	+	<input type="text"/>	= 10	<input type="text"/>	+	<input type="text"/>	= 10




Recorta los fantasmas y
pegalos por parejas para
formar amigos del


10



COMPLEMENTOS DEL 10

Colorea el paisaje libremente y a todas las vacas cuya suma sea 10





$6+4$

$2+5$

$7+3$

$3+2$

$3+6$

$4+5$

$2+8$

10


$5+5$




Nombre: _____

COMPLEMENTOS DEL 10

Fecha: _____



Colorea cada número según la clave que corresponda al número que hace pareja para sumar 10



COLOR CARNE

4 +

AZUL OSCURO

8 +

NARANJA

2 +

AZUL CLARO

3 +

AMARILLO

9 +

NEGRO

1 +

ROSA

6 +

BLANCO


5 +

ROJO

7 +

VERDE

0 +



Nombre: _____

Fecha: _____



LOS AMIGOS DEL 10

Colorea, del mismo color, todas las sumas que den 10 y descubrirás un dibujo oculto. Escribe las parejas en la parte de abajo.

7 + 4 = 9 + 9 = 9 + 1 = 8 + 2 = 8 + 3 = 3 + 3 =

8 + 4 = 6 + 4 = 7 + 8 = 8 + 7 = 2 + 8 = 8 + 8 =

2 + 1 = 4 + 4 = 7 + 3 = 4 + 7 = 5 + 5 = 9 + 9 = 2 + 4 =

1 + 2 = 7 + 3 = 9 + 5 = 7 + 7 = 8 + 7 = 4 + 2 =

6 + 5 = 10 + 0 = 2 + 8 = 6 + 4 = 9 + 1 = 8 + 7 =

2 + 5 = 4 + 6 = 8 + 2 = 0 + 10 = 3 + 7 = 4 + 5 =

2 + 8 = 1 + 9 = 7 + 3 = 2 + 4 = 9 + 4 =

9 + 6 = 1 + 1 = 3 + 5 = 5 + 3 = 3 + 7 = 7 + 3 = 2 + 4 = 3 + 3 = 1 + 1 =

8 + 5 = 9 + 8 = 3 + 3 = 1 + 1 =

Escribe las parejas que suman 10, sin repetir las que hayas puesto ya. Como pista hay 11 sin repetir.

<input type="text" value=" + ="/>	<input type="text" value=" + ="/>	<input type="text" value=" + ="/>	
<input type="text" value=" + ="/>	<input type="text" value=" + ="/>	<input type="text" value=" + ="/>	<input type="text" value=" + ="/>
<input type="text" value=" + ="/>	<input type="text" value=" + ="/>	<input type="text" value=" + ="/>	<input type="text" value=" + ="/>

