

Examen de SEPTIEMBRE de 2004 - 1º Bach. C. de la Naturaleza y de la Salud

1.- Resuelve las siguientes ecuaciones:

a) $\log(11-x^2) = 2 \cdot \log(5-x) - \log 2$

b) $4^{x-2} + 2^{x+1} = 20$

2.- Resuelve la inecuación

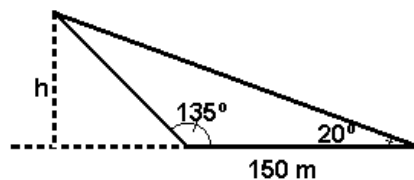
$$\frac{x^3 - 4x}{3x^2 - 10x + 3} \leq 0$$

3.- Resuelve las dos ecuaciones trigonométricas siguientes:

a) $6 \cdot \cos^2 x + \cos 2x = 1$

b) $\sin 2x = \cos x$

b) 4.- En el triángulo de la figura calcula el perímetro y la altura h.



Todos los ejercicios valen un punto, salvo el número 8 que vale dos puntos.

5.- Calcula los siguientes límites:

a) $\lim_{x \rightarrow 5} \frac{x^2 - 25}{\sqrt{4+x} - 3}$

b) $\lim_{x \rightarrow +\infty} \frac{3 - 2x^2}{5x - 2x^2} \cdot x^3$

6.- Estudia la continuidad de la función siguiente, especificando qué ocurre en $x = 0$ según los valores del parámetro a .

$$y = \begin{cases} \frac{3x+9}{x^2-9} & \text{si } x \leq 0 \\ \frac{a^2}{x^2-4} & \text{si } x > 0 \end{cases}$$

7.- Calcula y simplifica, en lo posible, las derivadas de las siguientes funciones:

a) $y = (\operatorname{tg} x)^{\sqrt{2x}}$ b) $y = \operatorname{sen}^2(\sqrt{4x - x^2})$

8.- Dibuja la gráfica de la función $y = \frac{x^2}{x+1}$ haciendo previamente un estudio de: la continuidad, las asíntotas, los puntos de corte con los ejes, el crecimiento-decrecimiento, los máximos y mínimos relativos, la concavidad-convexidad y los puntos de inflexión.

9.- Encuentra dos números que sumen 35, de manera que sea mínima la suma del doble del cuadrado del primero más el triple del cuadrado del segundo.

Soluciones Examen de septiembre de 2004 - 1º Bach. C.N.S

$$1) \text{ a) } \log(11-x^2) = 2 \cdot \log(5-x) - \log 2 \rightarrow \log(11-x^2) = \log \frac{(5-x)^2}{2} \rightarrow$$

$$(11-x^2) = \frac{(5-x)^2}{2} \rightarrow \Rightarrow 2 \cdot (11-x^2) = 25 + x^2 - 10x \rightarrow -3x^2 + 10x - 3 = 0 \begin{cases} x=3 \\ x=\frac{1}{3} \end{cases}$$

Ambas soluciones son válidas pues $\log 2 = 2 \log 2 - \log 2$ y $\log \frac{98}{9} = \log \frac{196}{9} - \log 2$

$$\text{b) } 4^{x-2} + 2^{x+1} = 20 \rightarrow \frac{4^x}{4^2} + 2 \cdot 2^x = 20 \rightarrow \frac{2^{2x}}{16} + 2 \cdot 2^x = 20$$

Hacemos el cambio $2^x = t$: $\frac{t^2}{16} + 2t - 20 = 0 \rightarrow t^2 + 32t - 320 = 0 \rightarrow t = \begin{cases} 8 \\ -40 \end{cases}$

Por tanto $2^x = \begin{cases} 8 \rightarrow 2^x = 2^3 \rightarrow x = 3 \\ -40 \text{ esto no es posible pues } 2^x \text{ es siempre positivo.} \end{cases}$

$$2) \frac{x^3 - 4x}{3x^2 - 10x + 3} \leq 0$$

Para resolver la inecuación resolvemos las dos ecuaciones siguientes:

$$x^3 - 4x = 0 \rightarrow x(x^2 - 4) \rightarrow x = 0; x = 2; x = -2 \quad 3x^2 - 10x + 3 = 0 \rightarrow x = 3; x = \frac{1}{3}$$

A la vista de las soluciones debemos probar el signo de la función en los intervalos

$(-\infty, -2), (-2, 0), (0, \frac{1}{3}), (\frac{1}{3}, 2), (2, 3), (3, +\infty)$. Para ello es más conveniente escribir

la inecuación así: $\frac{x(x-2)(x+2)}{3(x-3)(x-\frac{1}{3})} \leq 0$. Tomando un valor para x encada uno

de los intervalos, vemos que $\frac{x(x-2)(x+2)}{3(x-3)(x-\frac{1}{3})}$ es negativa en $(-\infty, -2)$

$$\cup (0, \frac{1}{3}) \cup (2, 3). \text{ Como}$$

la expresión se hace cero en $x = -2$ y no existe en $x = \frac{1}{3}$ y $x = 3$, la solución de la

inecuación es: $(-\infty, -2] \cup \left[0, \frac{1}{3}\right) \cup [2, 3)$.

$$3) 6 \cdot \cos^2 x + \cos 2x = 1 \rightarrow 6 \cos^2 x + (\cos^2 x - \sin^2 x) = 1 \rightarrow 7 \cos^2 x - (1 - \cos^2 x) = 1 \rightarrow$$

$$8\cos^2 x = 2 \rightarrow \cos^2 x = \frac{2}{8} = \frac{1}{4} \rightarrow \cos x = \pm \sqrt{\frac{1}{4}} = \pm \frac{1}{2}$$

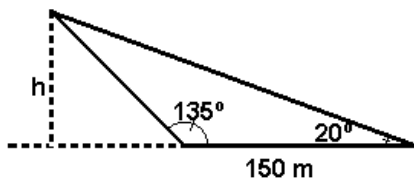
$$\begin{cases} \rightarrow x = \begin{cases} 60^\circ + 360^\circ K \\ 300^\circ + 360^\circ K \end{cases} \\ \rightarrow x = \begin{cases} 120^\circ + 360^\circ K \\ 240^\circ + 360^\circ K \end{cases} \end{cases} \quad K \in \mathbb{Z}$$

b) $\sin 2x = \cos x \rightarrow 2 \sin x \cos x - \cos x = 0 \rightarrow$

$$\cos x (2 \sin x - 1) = 0 \rightarrow$$

$$\begin{cases} \cos x = 0 \rightarrow x = \begin{cases} 90^\circ + 360^\circ K \\ 270^\circ + 360^\circ K \end{cases} \\ \sin x = \frac{1}{2} \rightarrow x = \begin{cases} 30^\circ + 360^\circ K \\ 150^\circ + 360^\circ K \end{cases} \end{cases} \quad K \in \mathbb{Z}$$

4)



para calcular el perímetro necesitamos la medida de todos sus lados. Primero calculamos el ángulo que falta :su medida será: $180^\circ - (135^\circ + 20^\circ) = 25^\circ$. Llamamos a, al lado opuesto al ángulo de 135° , b, al lado opuesto al ángulo de 20° y c, al lado opuesto al ángulo de 25° .

Aplicando el teorema del seno: $\frac{a}{\sin 135^\circ} = \frac{b}{\sin 20^\circ} = \frac{150}{\sin 25^\circ}$ De aquí obtenemos:

$$a = \frac{150 \cdot \sin 135^\circ}{\sin 25^\circ} \approx 250,97 \quad b = \frac{150 \cdot \sin 20^\circ}{\sin 25^\circ} \approx 121,39$$

Por tanto el perímetro es: 522,33

Para calcular h utilizamos el triángulo rectángulo cuya hipotenusa es b. Como el suplementario de 135° es 45° , podemos decir:

$$\sin 45^\circ = \frac{h}{b} = \frac{h}{121,39} \rightarrow h = 121,39 \cdot \sin 45^\circ \approx 85,8 \quad \text{Por tanto } h$$

= 85,8m. aproximadamente

5) $\lim_{x \rightarrow 5} \left[\frac{x^2 - 25}{\sqrt{4+x} - 3} \right] = \frac{0}{0}$ Hay que quitar la indeterminación: $\lim_{x \rightarrow 5} \left[\frac{x^2 - 25}{\sqrt{4+x} - 3} \right] =$

$$\lim_{x \rightarrow 5} \left[\frac{(x^2 - 25)(\sqrt{4+x} + 3)}{(\sqrt{4+x} - 3)(\sqrt{4+x} + 3)} \right] = \lim_{x \rightarrow 5} \left[\frac{(x - 5)(x + 5)(\sqrt{4+x} + 3)}{(4+x) - 9} \right] =$$

$$\stackrel{=}{=} \lim_{x \rightarrow 5} \left[\frac{(x - 5)(x + 5)(\sqrt{4+x} + 3)}{(4+x) - 9} \right] \stackrel{=}{=} \lim_{x \rightarrow 5} \left[\frac{(x - 5)(x + 5)(\sqrt{4+x} + 3)}{(x - 5)} \right] =$$

$$\stackrel{=}{=} \lim_{x \rightarrow 5} (x + 5)(\sqrt{4+x} + 3) = 10(\sqrt{9} + 3) = 60$$

$$\lim_{x \rightarrow +\infty} \left(\frac{3 - 2x^2}{5x - 2x^2} \right)^{1-x^3} = 1^{-\infty} \text{ esta indeterminación está relacionada con el número e:}$$

$$\lim_{x \rightarrow +\infty} \left(\frac{3 - 2x^2}{5x - 2x^2} \right)^{1-x^3} = e^{\lim_{x \rightarrow +\infty} \left(\frac{3 - 2x^2}{5x - 2x^2} - 1 \right) (1 - x^3)} = e^{\lim_{x \rightarrow +\infty} \frac{3 - 2x^2 - 5x + 2x^2}{5x - 2x^2} (1 - x^3)} =$$

$$e^{\lim_{x \rightarrow +\infty} \frac{(3 - 5x)(1 - x^3)}{5x - 2x^2}} =$$

$$e^{\lim_{x \rightarrow +\infty} \frac{5x^4 - 3x^3 - 5x + 3}{5x - 2x^2}} = e^{+\infty} = +\infty$$

$$6) y = f(x) = \begin{cases} \frac{3x+9}{x^2-9} & \text{si } x \leq 0 \\ \frac{a^2}{x^2-4} & \text{si } x > 0 \end{cases}$$

La primera rama es continua en todos los puntos de $(-\infty, 0)$ a excepción de $x=-3$:

$$\lim_{x \rightarrow -3} \frac{3x+9}{x^2-9} = \lim_{x \rightarrow -3} \frac{3(x+3)}{(x-3)(x+3)} = \lim_{x \rightarrow -3} \frac{3}{x-3} = \frac{3}{-6} = -\frac{1}{2}$$

Por tanto en $x=-3$ hay una discontinuidad de salto infinito. (Nótese que 3 no está en el primer intervalo.)

La segunda rama es continua en todos los puntos de $(0, +\infty)$ a excepción de $x=2$ donde hay una discontinuidad de salto infinito. (Nótese que -2 no está en el primer intervalo.)

Estudiemus la continuidad en $x=0$: Para que la función sea continua en $x=0$ deben ser iguales los límites laterales y la imagen de 0 : $f(0) = -1$;

$$\lim_{x \rightarrow 0^-} f(x) = \lim_{x \rightarrow 0^-} \frac{3x+9}{x^2-9} = -1 \qquad \lim_{x \rightarrow 0^+} f(x) = \lim_{x \rightarrow 0^+} \frac{a^2}{x^2-4} = \frac{a^2}{-4}$$

Para que $f(x)$ sea continua en $x=0$ debe cumplirse: $-1 = \frac{a^2}{-4} \rightarrow a^2 = 4 \rightarrow a = 2; a = -2$ Por tanto para $a \neq 2$ y $a \neq -2$;ex $x=0$ hay una discontinuidad de salto finito.

7)a) Tomamos: $\ln y = \ln(\operatorname{tg} x)^{\sqrt{2x}} \rightarrow \ln y = \sqrt{2x} \cdot \ln(\operatorname{tg} x) \rightarrow$

$$\frac{y'}{y} = \frac{2}{2\sqrt{2x}} \cdot \ln(\operatorname{tg} x) + \sqrt{2x} \cdot \frac{1}{\operatorname{tg} x} \cdot \frac{1}{\cos^2 x} = \frac{1}{\sqrt{2x}} \cdot \ln(\operatorname{tg} x) + \sqrt{2x} \cdot \frac{1}{\operatorname{sen} x} \cdot \frac{1}{\cos x} =$$

$$= \frac{\ln(\operatorname{tg} x) \cdot \operatorname{sen} x \cdot \cos x + 2x}{\sqrt{2x} \cdot \operatorname{sen} x \cdot \cos x}$$

$$b) y' = 2 \operatorname{sen}(\sqrt{4x - x^2}) \cdot \cos \sqrt{4x - x^2} \cdot \frac{4 - 2x}{2\sqrt{4x - x^2}} =$$

$$2 \operatorname{sen}(\sqrt{4x - x^2}) \cdot \cos \sqrt{4x - x^2} \cdot \frac{2 - x}{\sqrt{4x - x^2}} = (\operatorname{sen} 2(\sqrt{4x - x^2})) \cdot \frac{2 - x}{\sqrt{4x - x^2}}$$

8) $\text{Dom}(f)=\mathbb{R}-\{-1\}$ Esta función es continua en $\mathbb{R}-\{-1\}$; En $x=-1$ no tiene imagen.

$$\lim_{x \rightarrow -1^-} f(x) = \lim_{x \rightarrow -1^-} \frac{x^2}{x+1} = \frac{1}{0^-} = +\infty$$

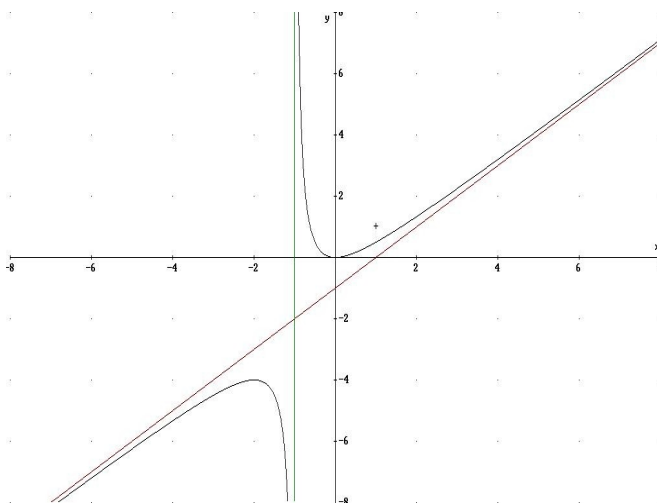
En $x=-1$ Tiene una discontinuidad de salto infinito

$$\lim_{x \rightarrow -1^+} f(x) = \lim_{x \rightarrow -1^+} \frac{x^2}{x+1} = \frac{1}{0^+} = -\infty$$

Tiene por tanto una asíntota vertical de ramas divergentes en $x=-1$
 No tiene asíntotas horizontales.

$f(x) = \frac{x^2}{x+1}$ dividiendo numerador entre denominador obtenemos $\frac{x^2}{x+1} = x - 1 + \frac{1}{x+1}$
 por tanto tiene asíntota oblicua en $y=x-1$;

La posición de la curva respecto a la asíntota oblicua es: $\lim_{x \rightarrow +\infty} \frac{1}{x+1} = 0^+ \Rightarrow$ curva por encima de la asíntota. $\lim_{x \rightarrow -\infty} \frac{1}{x+1} = 0^- \Rightarrow$ curva por debajo de la asíntota.



Cortes con los ejes: $f(x) = \frac{x^2}{x+1}$.

Con el eje y: $f(0) = \frac{0^2}{0+1} = 0$; Corte en (0,0)

Con el eje x:

$\frac{x^2}{x+1} = 0 \rightarrow x^2 = 0 \rightarrow x = 0$ Corte en (0,0)

Para estudiar el crecimiento hallamos

$$f'(x) = \frac{2x \cdot (x+1) - x^2 \cdot 1}{(x+1)^2} = \frac{x^2 + 2x}{(x+1)^2}$$

$$f'(x) = 0 \Rightarrow x^2 + 2x = 0 \rightarrow x(x+2) = 0 \rightarrow \begin{cases} x = 0 \\ x = -2 \end{cases}$$

$f'(x)$ no existe en $x=-1$ Probamos el signo de la

derivada en los intervalos: $(-\infty, -2)$, $(-2, -1)$, $(-1, 0)$, $(0, +\infty)$. Vemos que es positiva en $(-\infty, -2) \cup (0, +\infty)$ Y negativa en $(-2, -1) \cup (-1, 0)$ Esto quiere decir que la función crece en $(-\infty, -2) \cup (0, +\infty)$ y decrece en $(-2, -1) \cup (-1, 0)$ Por tanto tiene un mínimo relativo en (0,0) y un máximo relativo en (-2,-4).

Para estudiar la concavidad convexidad y puntos de inflexión, estudiamos $f''(x)$:

$$f''(x) = \frac{(2x+2) \cdot (x+1)^2 - (x^2+2x) \cdot 2(x+1)}{(x+1)^4} = \frac{(2x+2) \cdot (x+1) - (x^2+2x) \cdot 2}{(x+1)^3} =$$

$= \frac{2}{(x+1)^3}$; $f''(x)$ nunca se anula y no existe en $x=-1$. Estudiamos el signo de $f''(x)$ en los intervalos $(-\infty, -1)$, $(-1, +\infty)$. Vemos que es positiva en $(-1, +\infty)$ y negativa en $(-\infty, -1)$. Esto quiere decir que la función es \cup en $(-1, +\infty)$ y es \cap en $(-\infty, -1)$.

En $x=-1$ no hay punto de inflexión por no pertenecer -1 , al dominio de la función.

$$9) \quad x + y = 35 \rightarrow y = 35 - x \quad S(x, y) = 2x^2 + 3y^2 \rightarrow S(x) = 2x^2 + 3(35 - x)^2 = 2x^2 + 3(35^2 - 70x + x^2)$$

$$S(x) = 2x^2 + 3675 - 210x + 3x^2$$

$$S'(x) = 4x - 210 + 6x = 10x - 210. \text{ Para que haya un mínimo, } S'(x) = 0 \rightarrow$$

$$\rightarrow 10x - 210 = 0 \rightarrow x = \frac{210}{10} = 21$$

Probamos el signo de $S'(x)$ en los intervalos $(-\infty, 21)$, $(21, +\infty)$

$S''(x)$ es positiva en $(21, +\infty) \Rightarrow f(x)$ es creciente en $(21, +\infty)$. $S''(x)$ es negativa en $(-\infty, 21) \Rightarrow f(x)$ es decreciente en $(-\infty, 21)$. Por tanto $S(x)$ tiene un mínimo para $x=21$. Los números son $x=21$ y $y=14$.