





## FICHA DE LECTURA Nº 91



### OBSERVO Y CONTESTO:

1. Averigua lo que pone en la portada del cómic y escríbelo correctamente.





## FICHA DE LECTURA Nº 92


## *Sinónimos – antónimos*

**SINÓNIMOS:** Extender – Reciente – Acceso – Prudente – Molesto – Cercano  
Quietud – Flojo – Encarcelado – Listo.

**ANTÓNIMOS:** Enrollar – Lejano – Viejo – Libre – Intranquilidad – Fuerte  
Agradable – Necio – Salida – Insensato.



A	B	C
1. Calma		
2. Débil		
3. Preso		
4. Inteligente		
5. Próximo		
6. Entrada		
7. Insoportable		
8. Sensato		
9. Desplegar		
10. Nuevo		



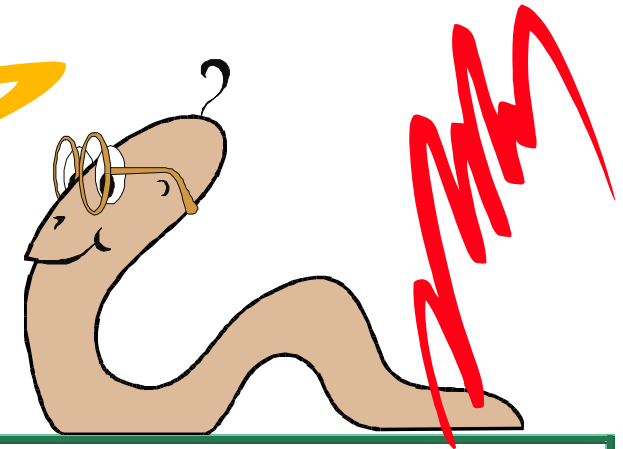
**OBSERVO Y CONTESTO:**

- Busca los sinónimos y antónimos de la columna A. Habrás de escribir los sinónimos en la columna B y los antónimos en la C.




## FICHA DE LECTURA Nº 93

Quien así hablaba era la lombriz Eustaquio  
Tenía miedo de que le rechazaran por su  
torneza y por esa razón no había dicho  
nada pero desde luego hubiera dado  
cualquier cosa -incluso su brazo derecho de  
haber tenido brazos- por acompañar al  
profesor Col en su aventura



### OBSERVO Y CONTESTO:

1. ¿Cómo se llamaba la lombriz?
2. ¿A qué tenía miedo la lombriz?
3. ¿Por qué tenía miedo?
4. ¿Qué hubiese dado la lombriz por acompañar al profesor?
5. ¿Qué iba a comenzar el profesor?





## FICHA DE LECTURA Nº 94






OBSERVO Y CONTESTO:

1. Escribe correctamente el primer texto.
2. Completa el segundo texto con los siguientes términos:  
consumo – ciclo – equilibrio – demográfico – utilizada - doblando

### ¿Cómo usamos el agua?

El agua ha sido considerada comúnmente como un recurso renovable, cuyo uso no se veía limitado por el peligro de agotamiento que afecta, por ejemplo, a los yacimientos minerales. Los textos escolares hablan, precisamente, del “ciclo del agua” que, a través de la evaporación y la lluvia, devuelve el agua a sus fuentes para engrosar ríos, lagos y acuíferos subterráneos... y vuelve a empezar.

Y ha sido así mientras se ha mantenido un \_\_\_\_\_ en el que el volumen de agua \_\_\_\_\_ no era superior al que ese \_\_\_\_\_ del agua reponía. Pero el consumo de agua se ha disparado: a escala planetaria el consumo de agua potable se ha venido \_\_\_\_\_ últimamente cada 20 años, debido a la conjunción de los excesos de \_\_\_\_\_ de los países desarrollados y del crecimiento \_\_\_\_\_, con las consiguientes necesidades de alimentos.





## FICHA DE LECTURA Nº 95

L  
o  
s  
pro  
ble  
mas  
que  
sur-  
gen

con  
e  
l  
agua  
son  
que  
u  
q  
e  
tá  
es

mente desigual  
da  
reparti-  
>  
que

bre hom  
el  
con su  
OS u

la  
es  
tá  
nando. contami




OBSERVO Y CONTESTO:

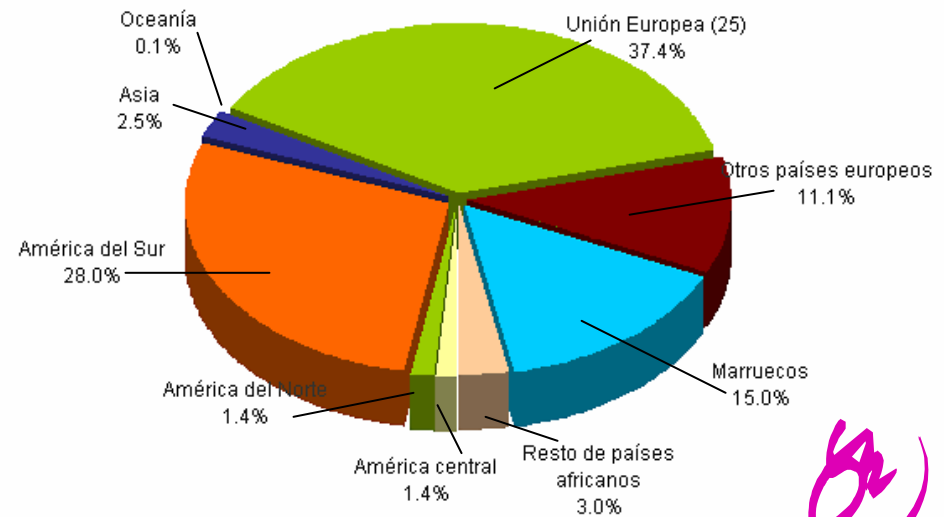
1. Escribe el texto



## FICHA DE LECTURA Nº 96



Distribución de la población extranjera de 0 a 19 años según lugar de nacimiento. Andalucía 2005




Fuente: Padrón Municipal de habitantes de 2005 INE.

Elaboración: Defensor del Menor de Andalucía a partir de datos extraídos por el Observatorio de la Infancia en Andalucía

### OBSERVO Y CONTESTO:

1. ¿Qué representa esta gráfica?
2. ¿Quién la ha elaborado?
3. Según se refleja, ¿de qué lugar proceden la mayor parte de la población extranjera?
4. ¿Cuántos provienen de América del Sur?
5. ¿El 15,0 % a qué población hace referencia?





## FICHA DE LECTURA Nº 97

OBSERVO Y CONTESTO:

1. Uniendo elementos de A, B y C formarás frases. Fíjate bien e inténtalo.



**A**

**B**

**C**

**1** Las aguas

**5** están formados

**9** y que el hombre con su uso la está contaminando.

**2** La sangre, el sudor, los jugos gástricos y la orina

**6** son que está desigualmente repartida

**10** grandes cantidades de agua.

**3** Las fábricas y las centrales eléctricas

**7** se contaminan

**11** por agua.

**4** Los problemas que surgen con el agua

**8** también utilizan

**12** con las aguas sucias de los pueblos, con los vertidos de las industrias, etc.





## FICHA DE LECTURA Nº 98

OBSERVO Y CONTESTO:

1. En el texto hay varias palabras que no concuerdan con el sujeto, ¿sabes cuáles son?

### **HAY AGUA POR TODAS PARTES**

La mayor parte de nuestra Tierra está cubierta de agua. Casi tres cuartas partes de la superficie de la Tierra son océano y mares. El agua del mar es salada. También hay mucha agua en tierra firme:

estanques, arroyos, ríos, lagos y subsuelo. Esta agua proviene de la lluvia. No es salada. En nuestros cuerpos hay abundante agua así como en los animales y las plantas. Sin agua todo se moriría.







## FICHA DE LECTURA Nº 99

DESGLOSE POR BLOQUES														
CONSUMO DE AGUA					ALCANTARILLADO VARIABLE					DEPURACION VARIABLE				
Blq	Limite	m³	Euro/m³	Importe	Blq	Limite	m³	Euro/m³	Importe	Blq	Limite	m³	Euro/m³	Importe
1	15	15	0,3651	5,48	1	15	15	0,0580	0,87	1	15	15	0,1472	2,21
2	36	21	0,6143	12,90	2	36	21	0,0790	1,66	2	36	21	0,1992	4,18

aqualia gestión integral del agua, S.A. A26019992 Factura nº: 14362007P0032902  
C/ Jacinto Benavente nº 3 Bajo.  
14.400 Pozoblanco (Córdoba)

CONCEPTOS FACTURADOS	Mº Fac	Importe	% I.V.A.	Tipo I.V.A.	Base Imponible	Importe I.V.A.	Importe Total
CONSUMO DE AGUA	36	18,38	7,00	7,00%	23,17	1,62	24,79
CUOTA SERVICIO		4,79	7,00				
<b>TOTAL FACTURA</b>					<b>23,17</b>	<b>1,62</b>	<b>24,79</b>

Excmo. Ayuntamiento de Pozoblanco P1405400A Factura nº: 14362007P0031728  
Cronista Sepulveda, 2  
14.400 - Pozoblanco (Córdoba)

CONCEPTOS FACTURADOS	Mº Fac	Importe	% I.V.A.	Tipo I.V.A.	Base Imponible	Importe I.V.A.	Importe Total
ALCANTARILLADO FIJO		1,52		No suje	14,92	0,00	14,92
ALCANTARILLADO VARIABLE	36	2,53					
DEPURACION FIJA		4,48					
DEPURACION VARIABLE	36	6,39					
<b>TOTAL FACTURA</b>					<b>14,92</b>	<b>0,00</b>	<b>14,92</b>

**TOTAL EN EUROS**  
39,71



JACINTO BENAVENTE 3

Pozoblanco

14400 Córdoba

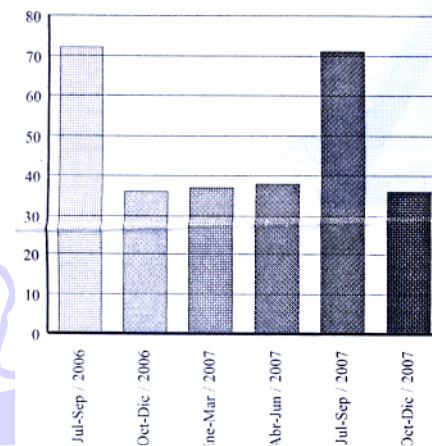
EXCELENTISIMO AYUNTAMIENTO DE POZOBLANCO.  
SERVICIO MUNICIPAL DE AGUAS

### FACTURACIÓN Oct - Dic / 2007

Número contador: 97124133 Calibre: 13  
Tipo de contador: Individual normal  
Lectura anterior: 1878 Fecha: 28/08/2007  
Lectura actual: 1914 Fecha: 27/11/2007

Consumo: 36 Tipo: REAL Días cons: 91  
Tarifa: DOMEST.-COMERCIAL Cat: Única  
Actividad ppal: Doméstica Usuarios: 1

### HISTORIAL DE CONSUMOS



### OBSERVO Y CONTESTO:

1. ¿Qué empresa presenta este recibo?
2. ¿El consumo es de: teléfono, agua, butano, electricidad, basura?
3. ¿A qué período corresponde el recibo?
4. ¿Qué importe deberemos pagar?
5. ¿Qué período es el de mayor consumo?