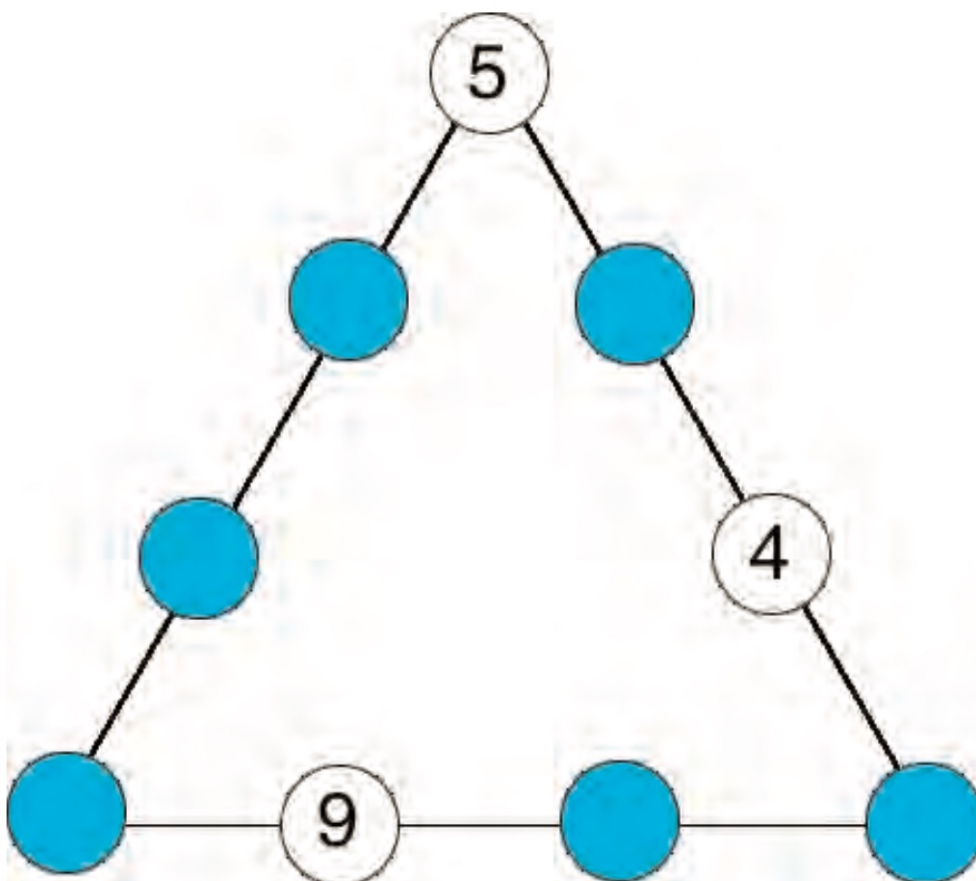


Triángulo y números

Completa los números que faltan para que la suma de cada uno de los lados sea igual a 20.

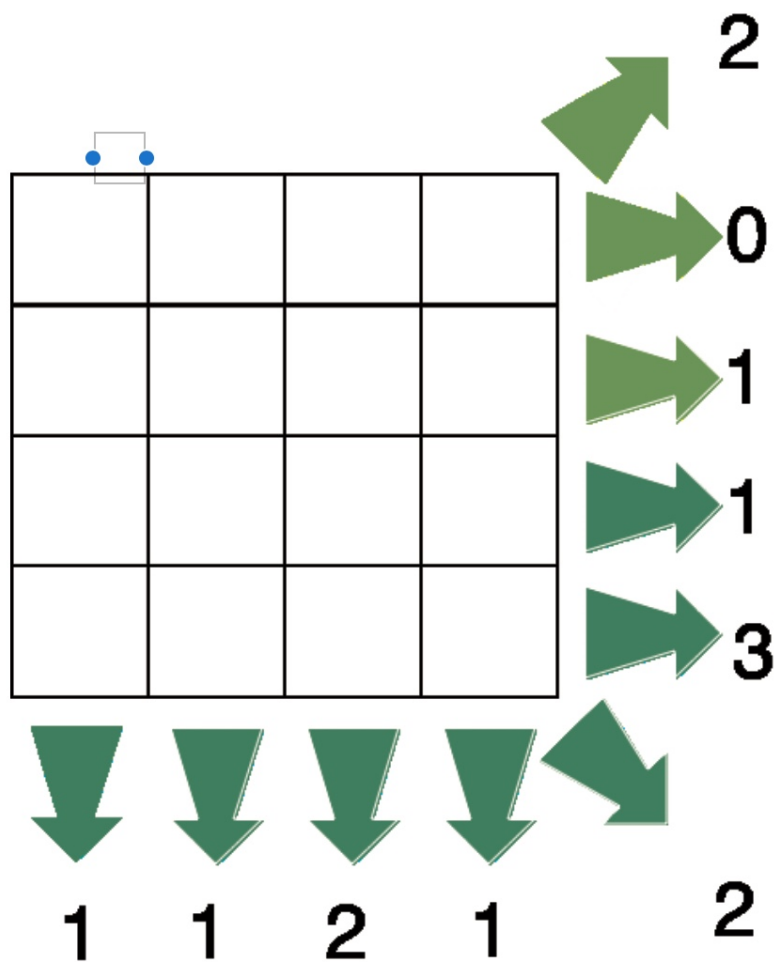


SEGUNDO CICLO

PRUEBA 1B

Coloca sobre este tablero, fichas.

Los números laterales indican el número de fichas que hay en cada fila, columna y diagonal.



ACERTIJO: Lee y Contesta.

Esta frase tiene vocales

¿Qué número, expresado en letras, hay que poner en el hueco para que la frase sea VERDADERA?

SEGUNDO CICLO

PRUEBA 2B

El rey Dinerillos tiene 20 monedas de oro.

Las pone en cuatro pilas.

A la primera pila hay cuatro monedas más que a la segunda.

La segunda tiene una moneda menos la tercera.

La cuarta pila tiene el doble de monedas que la segunda.

¿Cuántas monedas de oro ha puesto a cada pila el rey Dinerillos?



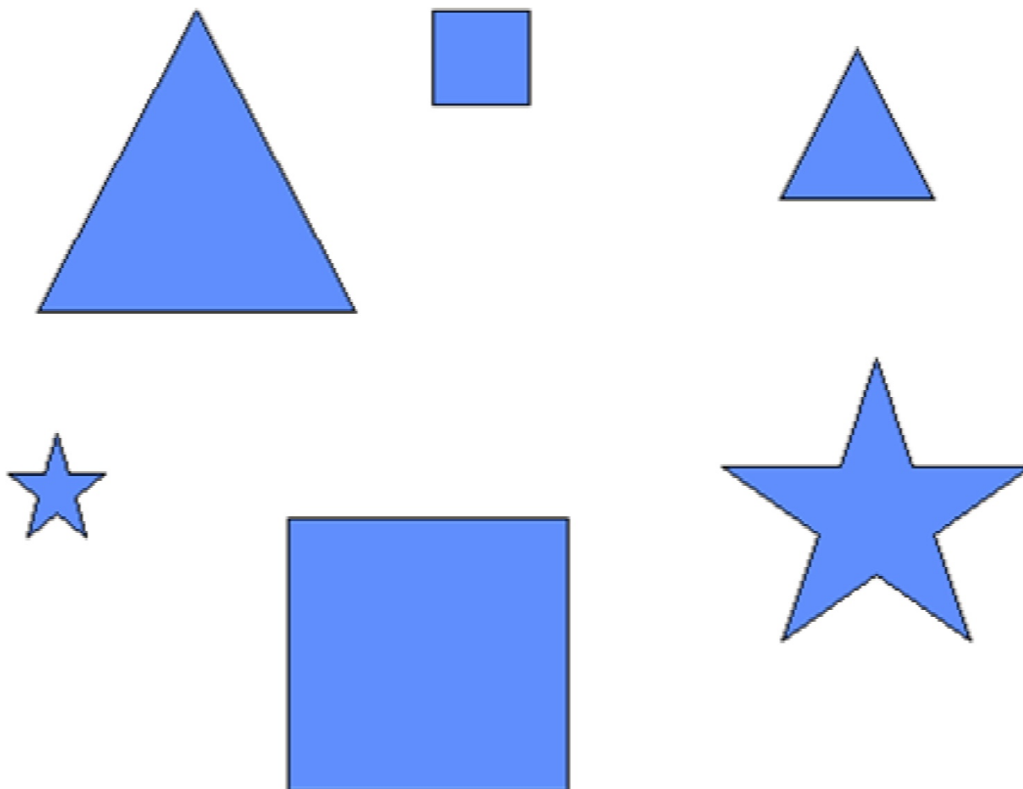
Solución

SEGUNDO CICLO

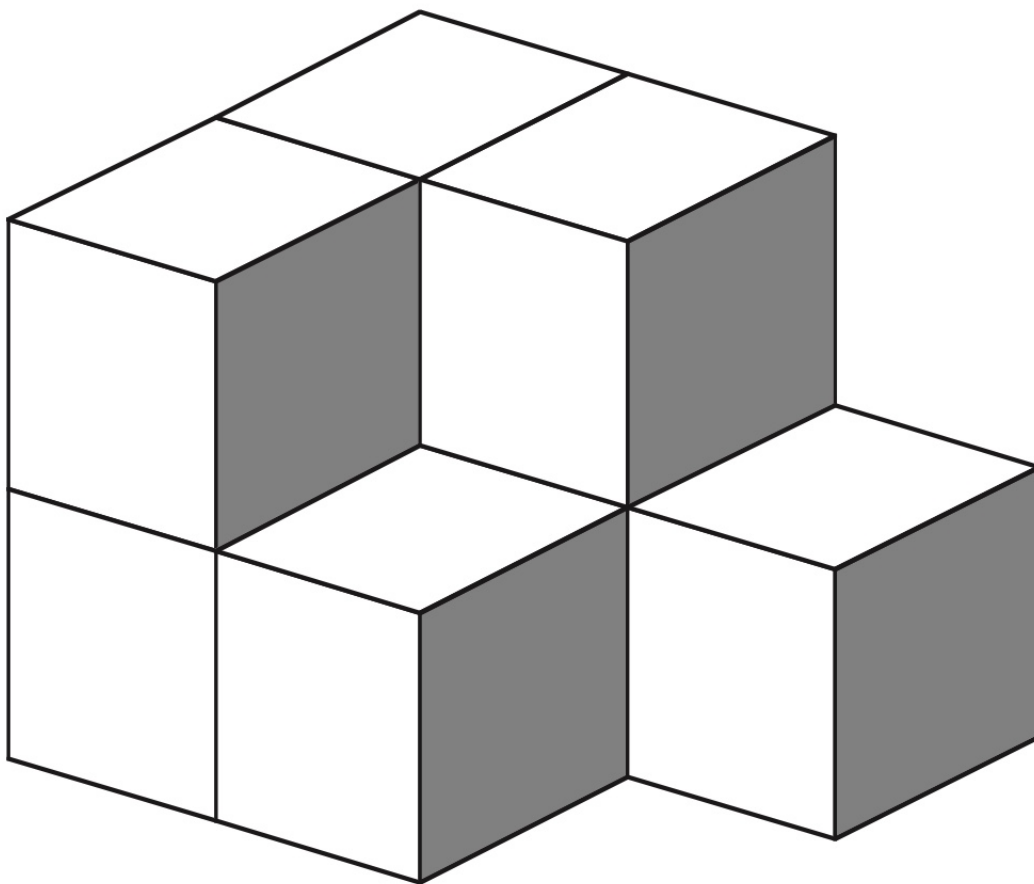
PRUEBA 3A

Tratar de unir cada polígono pequeño con su tocayo grande.

¡ Las líneas de unión no deben tocarse y tampoco pueden pasar por detrás de las figuras pequeñas !



¿Cuántos cubos faltan para completar la figura?



¿Qué cifra corresponde a cada fruta?

$$\begin{array}{c} \text{P} + \text{L} + \text{A} + \text{A} = 20 \end{array}$$


$$\begin{array}{c} \text{L} + \text{A} + \text{L} + \text{P} = 23 \end{array}$$

$$\begin{array}{c} \text{A} + \text{P} + \text{P} + \text{L} = 21 \end{array}$$

SEGUNDO CICLO

PRUEBA 4B

- Roque y Juan tienen zapatos negros
 - Luis y Oscar tienen calcetines altos.
 - Oscar y Juan tienen camisa de manga corta.
- ¿Como se llama cada muchacho?



La tabla de multiplicar

Completa esta tabla de multiplicar

x		4	9	
		8	18	
3		12		
	35			14
				2

Este cuadro numerico es tambien un cuadro magico. La suma de las filas, columnas y diagonales deben sumar siempre 30 . Hay tres números equivocados. ¿Que números son? ?

3	12	10	5
10	6	7	7
7	8	9	6
11	4	6	13