


Cuaderno para la Resolución de Problemas
Matemáticas




Nombre: CECILIA

Curso: E. I. 5 años

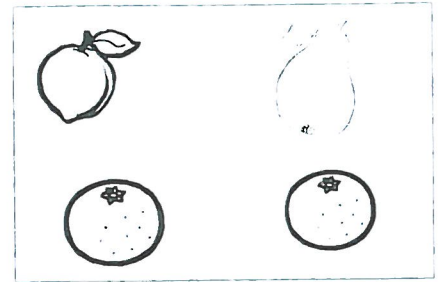
1.- Javier tiene 3 canicas e Ismael le regala 2. ¿Cuántas canicas tiene Javier?

$$\begin{array}{r} 3 \\ + 2 \\ \hline 5 \end{array}$$




2.- Tiene mama en el frutero 1 pera, 1 melocotón y 2 naranjas. ¿Cuántas frutas hay en el frutero?

$$\begin{array}{r} 1 \\ + 1 \\ + 2 \\ \hline 4 \end{array}$$



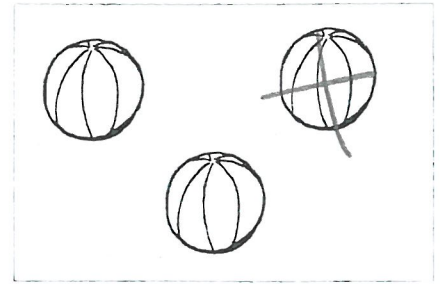
3.- Tengo 2 cochecitos y mi hermano me regala 2. ¿Cuántos cochecitos tengo ahora?

$$\begin{array}{r} 2 \\ + 2 \\ \hline 4 \end{array}$$




4.- Tienes 3 pelotas y le das una a Carlos. ¿Cuántas te quedan?

$$\begin{array}{r} 3 \\ - 1 \\ \hline 2 \end{array}$$





5.- Tengo 3 muñecas pero se me han roto dos. ¿Cuántas me quedan?

$$\begin{array}{r} 3 \\ - 2 \\ \hline 1 \end{array}$$




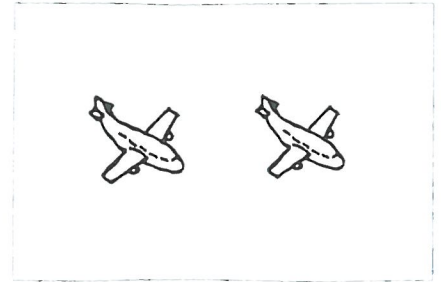
6.- Tú tienes 2 cerezas y yo tengo una. ¿Cuántas cerezas tenemos entre los dos?

$$\begin{array}{r} 2 \\ + 1 \\ \hline 3 \end{array}$$




7.- Si tienes 2 aviones y te dan otro ¿Cuántos aviones tendrás?

$$\begin{array}{r} + 2 \\ 1 \\ \hline 3 \end{array}$$




8.- Juan tiene 2 barquitos. Si le da uno a su hermano. ¿Cuántos le quedan?

$$\begin{array}{r} - 2 \\ 1 \\ \hline 1 \end{array}$$



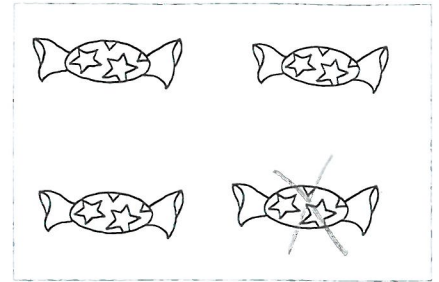
9.- Si tienes 3 fresas y das una a Enrique. ¿Cuántas te quedan?

$$\begin{array}{r} - 3 \\ 1 \\ \hline 2 \end{array}$$




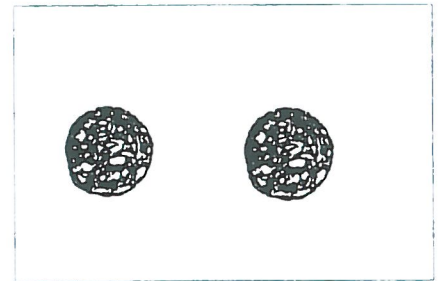
10.- Tengo 4 caramelos y me como 1. ¿Cuántos caramelos me quedan?

$$\begin{array}{r} 4 \\ - 1 \\ \hline 3 \end{array}$$



11.- Haces 2 bolas de plastilina y Carlos hace otra. ¿Cuántas bolas de plastilina tendréis entre los dos?

$$\begin{array}{r} 2 \\ + 1 \\ \hline 3 \end{array}$$



12.- Si tienes 1 globo y tu madre te da 2 globos más. ¿Cuánto globos tendrás?

$$\begin{array}{r} 1 \\ + 2 \\ \hline 3 \end{array}$$

