



## **Sesión núm. 1.-**







### **Las señales de circulación**

**Colores, formas, significados y prioridad**

# Las señales de circulación

## Colores, formas y significados

Colores		Significado
Rojo		Peligro o prohibición
Azul		Obligación e información
Amarillo		Precaución
Verde		Paso libre

Formas		Significado
Triángulo equilátero con orla roja		Peligro
Circulo con orla roja		Prohibición o restricción.
Circulo con fondo azul		Obligación
Cuadrado o rectángulo con fondo azul		Indicaciones generales y de carriles
Rectángulos con fondo azul y símbolos en placa blanca		Servicios
Rectángulo con fondo blanco, verde, azul u otros colores		Orientación

# CLASIFICACIÓN DE LAS SEÑALES



## Señales verticales.-

Están sujetas con un poste al lado de las calles y carreteras




## Marcas viales

Son las pintadas en el suelo. Pueden ser de color blanco, o de otros colores.



## Semáforos

Con sus luces de colores nos indican si podemos pasar o no.



## Señales de balizamiento

Nos indican donde va la carretera o señalan obstáculos en la calzada

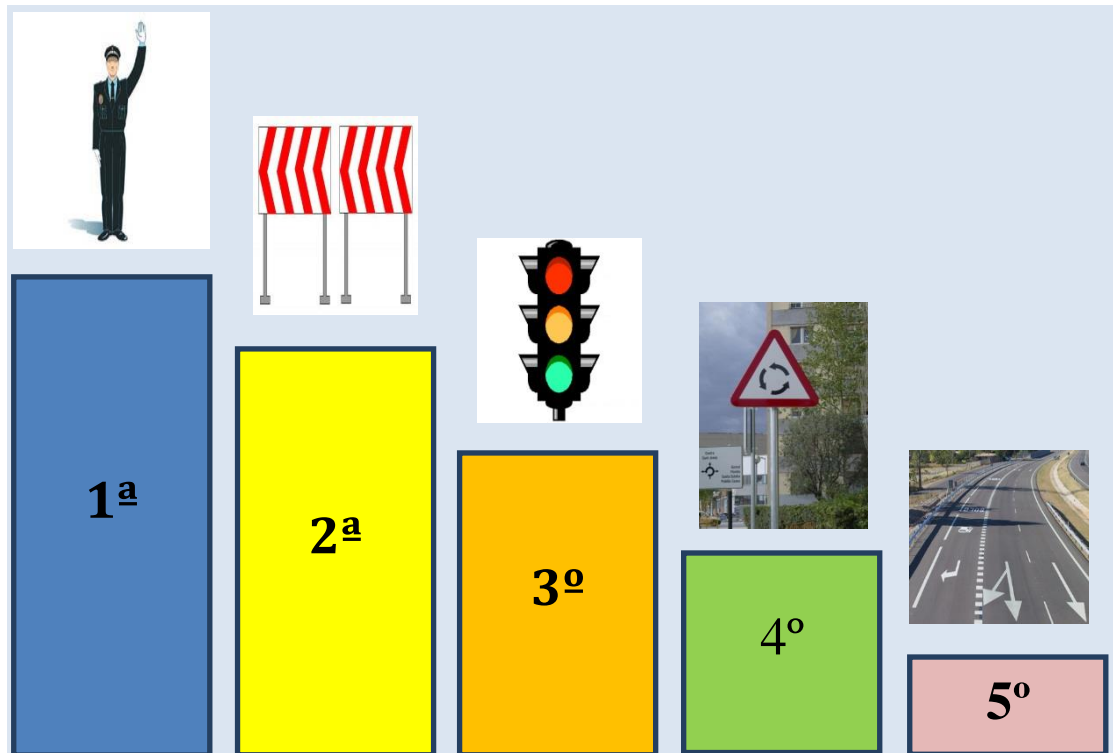


## Señales de los agentes

Nos pueden hacer señales que tenemos que obedecer siempre aunque contradigan a otras señales.

# Orden de prioridad entre las señales

El **orden de prioridad** entre los distintos tipos de señales de circulación es el siguiente:



1.- Señales y ordenes de los Agentes de Circulación.

2.- Señalización circunstancial que modifique el régimen normal de utilización de la vía y señales de balizamiento fijo.

3.- Semáforos

4.- Señales verticales de circulación

5.- Marcas viales

# APLICACIÓN DE LAS SEÑALES




Toda señal se aplicará a toda la anchura de la calzada que estén autorizados a utilizar a utilizar los conductores a quienes se dirija esa señal.



No obstante, su aplicación **podrá limitarse** a uno o más carriles, **delimitados mediante marcas longitudinales** en la calzada.


# OBEDIENCIA DE LAS SEÑALES

## Caso práctico núm. 1.-



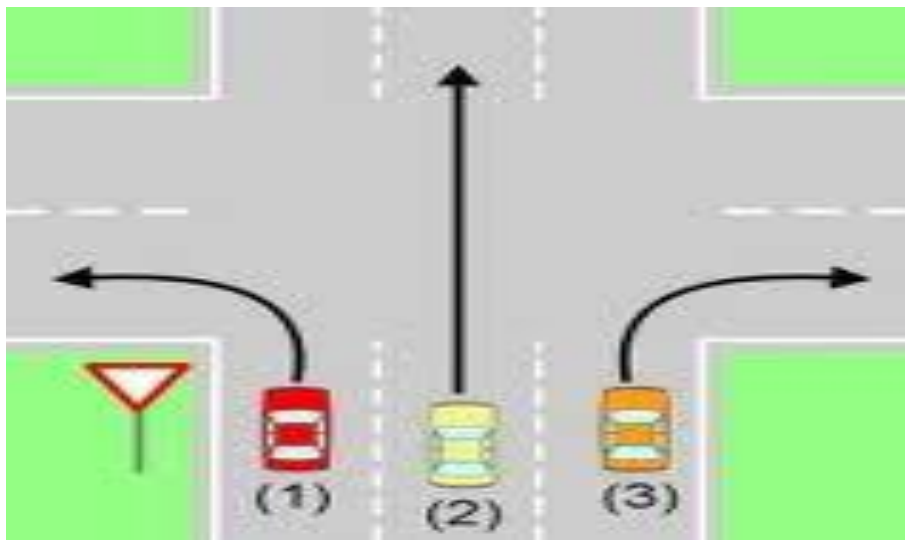
El conductor del vehículo rojo debe obedecer la señal de STOP, cualquiera que sea la dirección que pretenda seguir.

## Caso práctico núm. 2.-



El conductor del vehículo rojo obedecerá el semáforo si pretende seguir de frente o girar a la izquierda. Si pretende cambiar de dirección hacia la derecha, no está obligado a obedecer el semáforo.

### Caso práctico núm. 3.-




Hace ceda el paso el vehículo rojo (1) y el amarillo (2) no el vehículo marrón (3)



## Caso práctico núm. 4.-



Si Ud. pretende girar a la derecha, debe obedecer la señal de Ceda el Paso y si gira a la izquierda o sigue de frente, a la señal de STOP.



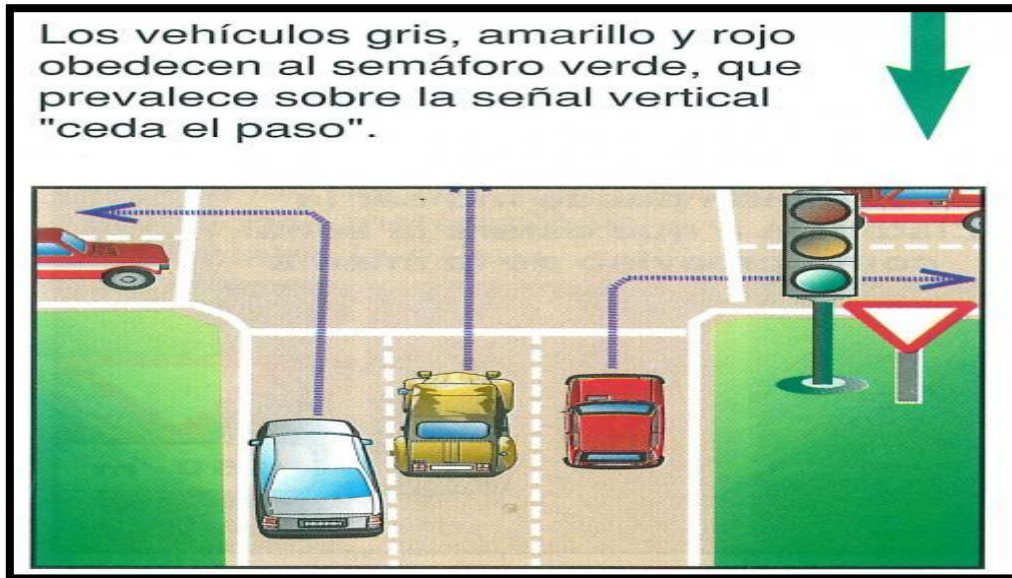
El conductor del vehículo rojo obedecerá el semáforo verde si pretende girar hacia la derecha. Si pretende seguir de frente o girar hacia la izquierda, deberá obedecer el semáforo rojo.





# APLICACIÓN DE LAS SEÑALES

## Caso práctico núm. 5.-



## Caso práctico núm. 6.-



## Caso práctico núm. 7.-

LEO, ESCRIBO  
Y  
CONDUZCO



En el caso de que las indicaciones indicadas por **señales de diferente tipo**, parezca estar en contradicción entre sí, prevalecerá la señal más **prioritaria**.



## CONTRADICCION ENTRE SEÑALES DEL MISMO TIPO

## Caso práctico núm. 8.-

Si la contradicción se produce entre señales del **mismo tipo**, prevalecerá la más **restrictiva**.















## Fichas de actividades

Responde a las siguientes preguntas.





1.- Escribe el nombre de los siguientes colores

	Nombre
	
	
	
	


Y de las siguientes formas.-




	Nombre
	
	
	
	







2.- Escribe el significado de los siguientes colores

	Significado
	
	
	
	

3.- Completa la siguiente tabla

Colores		Significado
Rojo		

		Obligación e información
Amarillo		
		Paso libre

Formas		Significado
Triángulo equilátero con orla roja		
		Prohibición o restricción.
Circulo con fondo azul		
		Indicaciones generales y de carriles
Rectángulos con fondo azul y símbolos en placa blanca		
Rectángulo con fondo blanco, verde, azul u otros colores		Orientación

## 4.- Explica el significado de cada una de estas señales.



1.-

2.-

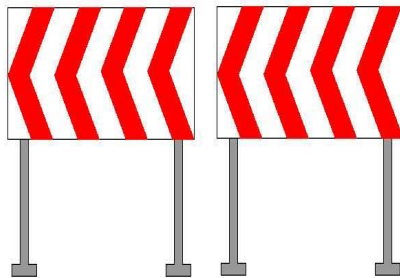
3.-

4.-

5.-



## 5.- Completa la siguiente tabla. Une con flechas



### Marcas viales

Son las pintadas en el suelo. Pueden ser de color blanco, o de otros colores.

### Señales de balizamiento

Nos indican donde va la carretera o señalan obstáculos en la calzada

### Señales verticales.-

Están sujetas con un poste al lado de las calles y carreteras

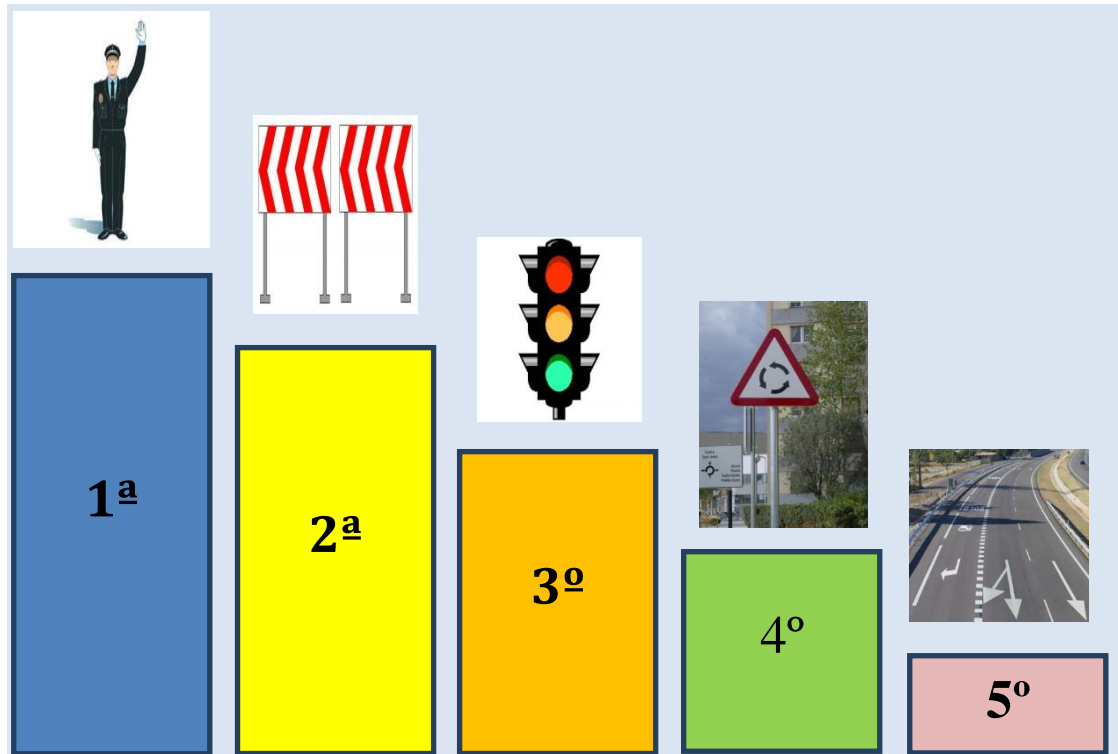
### Señales de los agentes

Nos pueden hacer señales que tenemos que obedecer siempre aunque contradigan a otras señales.

### Marcas viales

Son las pintadas en el suelo. Pueden ser de color blanco, o de otros colores.

## 6.- Enumera el orden de prioridad de las señales de circulación:



1.-

2.-

3.-

4.-

5.-

## 7.- Responde a las siguientes preguntas.-

7.1.- Si se encuentra con señales de distinto tipo, ¿Cuál respetará cuando exista contradicción entre ellas?



- a.- La más restrictiva
- b.- La más prioritaria, según el orden de prioridad entre señales
- c. La menos restrictiva.

7.2.- ¿Cómo debe actuar el conductor al llegar a esta intersección?



- a.-** Disminuyendo la velocidad para observar si se aproximan vehículos por la vía transversal y, si no se aproximan, continuar, sin necesidad de detenerse, realizando un cambio de dirección a la izquierda.
- b.-** Deteniéndose ante la línea transversal, para reanudar la marcha haciendo un cambio de dirección hacia la izquierda cuando no se aproximen otros vehículos.
- c.-** Deteniéndome obligatoriamente ante la línea transversal, pudiendo continuar en cualquier dirección cuando no vengán vehículos por la vía transversal.

## 8.- ¿Cómo actuar ante las siguientes situaciones?




.....

.....

.....

.....

.....



.....

.....

.....

.....

.....



.....

.....

.....

.....

.....

## 8.- ¿A qué señal debo obedecer en cada una de las imágenes?



## 9.- Lee y comenta el siguiente texto.-

- ✘ El orden a seguir, es el siguiente: primero de todo están los agentes, que regulan el tráfico, luego están las señales circunstanciales y de balizamiento fijo, luego están los semáforos las señales verticales y finalmente, las señales horizontales o marcas viales.
- ✘ Si nos encontráramos un agente al lado de un semáforo, obedeceríamos al agente ya que tienen mayor prioridad.
- ✘ Si nos encontráramos un stop en el suelo y un ceda el paso vertical, obedeceríamos la señal vertical de ceda el paso.
- ✘ Excepciones: con el semáforo en intermitente y la señal de stop obedeceríamos el stop. Con la barrera del paso a nivel, cuando vamos a pasar por la vía del tren, si esta la barrera levantada, y hay cualquier otra señal, también se cumple la otra señal.

- ✘ Si hay dos señales iguales una que prohíbe parar y otra que prohíbe para y estacionar, se hace caso a la que prohíbe más.