

El sector primario en la UE

El **40% de las tierras europeas** se destinan a actividades agropecuarias, pero solo ocupa al **5% de la población** y supone **2% del PIB comunitario**.

En la agricultura europea hay dos paisajes característicos:

- **Paisaje Mediterráneo**, donde hay cultivo de secano (trigo, vid y olivo) y cultivo de regadío que son cultivos de huerta que son los más rentables. A estos hay que añadirle cultivo para alimentar el ganado (cebada) y las plantas industriales (tabaco, algodón, remolacha,...)
- **Paisaje cerealista centroeuropeo**, donde existe grandes rendimientos debido a la mecanización y a la rotación de cultivos (en invierno cereales y en verano forraje para el ganado).

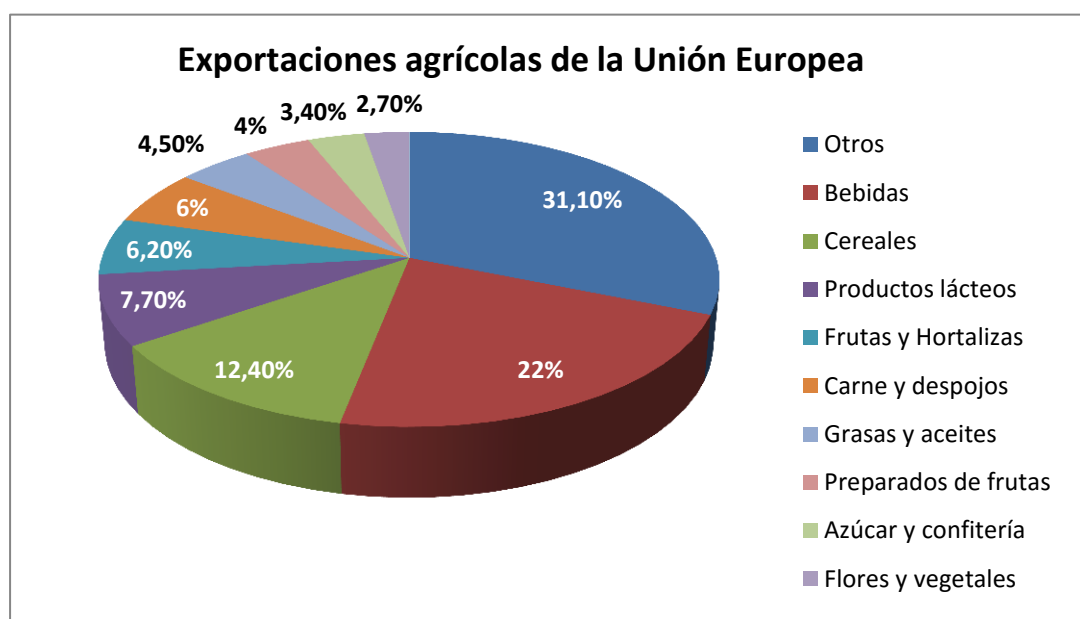
La **Política Agraria Común (PAC)**, determina la política agraria común de los países miembros. Esta organización nace con tres objetivos:

- Modernizar las explotaciones para incrementar la productividad.
- Lograr el autoabastecimiento de productos agrarios básicos a unos precios asequibles a los consumidores.
- Garantizar a los agricultores un nivel de vida razonable

Establece **cuotas de producción** de diferentes productos para evitar excedentes. Se establecen **subvenciones** a los agricultores y otras ayudas económicas, pero solo para aquellos que emplean técnicas respetuosas con el **medio ambiente**, asegurando el **desarrollo rural**.

La UE es la **tercera potencia pesquera del mundo**. Tras una larga reconversión, cuenta con una flota eficiente y moderna.

A través de la **Política Pesquera Común (PPC)**, la UE establece **cuotas de pesca** por países dentro de los caladeros propios, con el objetivo de evitar sobrepesca y proteger el entorno marino y las especies amenazadas; concede **ayudas económicas** que favorezca la **acuicultura**; y negocia **acuerdos con países no comunitarios** para poder pescar en sus caladeros.



1. Contesta a las siguientes cuestiones

- ¿Qué porcentaje supone el sector primario de la Unión Europea sobre el PIB de la Unión?.....

- En el paisaje agrícola europeo podemos distinguir dos tipos:

-
-

- Cuando se funda la política agraria común existen tres objetivos, ¿cuáles son?

-
-
-

- En la política pesquera común se establece:

-
-
-

- Escribe el porcentaje de exportación de los siguientes productos de la Unión

Cereales.....	Frutas y hortalizas.....
Productos lácteos.....	Carne y despojos.....
Grasas y aceites.....	Azúcar y confitería.....

Sector primario en España

El norte peninsular

El bocage, minifundio y el hábitat disperso constituye los elementos tradicionales del paisaje agrario

El clima húmedo, favorece los pastos y los bosques, por lo que la explotación forestal es la actividad agrícola de esta zona.

Los cultivos típicos son: maíz, trigo, patatas y plantas forrajeras

Canarias

El espacio dedicado a las actividades agrícolas ha ido retrocediendo. La agricultura de secano ha dado paso al sistema de regadío y cultivo bajo plástico.

Los productos son: plátano, flores, tomates, frutos subtropicales,....
Estos cultivos se cultivan en terrazas

El Sector Primario en España, ocupa el **5% de la población activa** y aporta el **3,5% del PIB**.

Para entrar en la Unión Europea, España tuvo que hacer un gran esfuerzo para conseguir un sector agrario más productivo y competitivo. Las últimas modificaciones de la PAC vinculan las ayudas al tamaño de los campos de cultivo y a que los campesinos tengan en cuenta el respeto al medio ambiente, la seguridad alimentaria y el bienestar animal en sus explotaciones.



El litoral mediterráneo

Domina el hábitat concentrado y la pequeña propiedad. Los cultivos característicos son: cítricos, otros frutales, las hortalizas, el arroz, las flores.

La agricultura de secano principalmente en Andalucía y Extremadura donde predomina: la vid, el olivo y cereales.

Las llanuras del interior peninsular

Predomina agricultura de secano, extensiva y de bajo rendimiento.

El cultivo de regadío que predomina es el de huerta.

Predomina la pequeña propiedad, frente al sur que destaca las grandes extensiones.

En ambos casos es un hábitat concentrado

La **ganadería en España**, aporta el **40% del Sector Primario**. Predomina la **ganadería intensiva y estabulada**. España ocupa el segundo lugar en número de cabezas de ganado porcino, ovino y caprino dentro de la Unión Europea y el tercer puesto en producción de carne y huevos de gallina.

España **es uno de los principales países pesqueros** del mundo. Ocupa el primer lugar entre los Estados europeos por el tamaño de su flota y el segundo por el volumen de sus capturas. Conviven la pesca artesanal y la pesca industrial. Como las capturas en la Unión Europea son insuficientes para abastecer a la población es necesario **acuerdos con otros países**. Una de las soluciones es potenciar la **acuicultura**.

La **explotación forestal** no es una actividad económica importante debido a la escasez de bosques en la Unión Europea

Zona del Cantábrico y noroeste

Galicia constituye la principal región pesquera española, y Vigo, el mayor puerto de pesca.

Golfo de Cádiz

Isla Cristina (Huelva) y Cádiz son los principales puertos pesqueros de esta zona, en cuyas aguas se capturan, sobre todo, boquerones, sardinas y marisco.



Zona Mediterránea

La reducción de poblaciones de peces por la sobre explotación ha llevado a normas pesqueras muy restrictivas en esta zona.

Canarias

La actividad pesquera sobresale en las islas de Tenerife y La Gomera. Las especies más capturadas son el atún y el bonito listado.



2. Contesta a las siguientes cuestiones:

- ¿Qué porcentaje de población activa ocupa el Sector Primario España?.....
.....
- ¿Qué porcentaje aporta el Sector Primario español al PIB?.....
.....
- ¿Cuáles son los paisajes agrarios tradicionales que nos podemos encontrar en el norte peninsular?
 -
.....
 -
.....
 -
.....
- ¿Cuáles son los cultivos típicos del norte peninsular?.....
.....
.....
- ¿Cuáles son los cultivos típicos de Canarias?.....
.....
.....
- ¿Qué tipo de agricultura en el interior peninsular?.....
.....
- ¿Cómo es el hábitat del interior peninsular?.....
.....
- En litoral mediterráneo, ¿cómo es el hábitat y cuáles son los cultivos característicos?.....
.....
.....
- ¿Cuál es la agricultura predominante en Andalucía y Extremadura?.....
.....
.....

- ¿Qué porcentaje representa la ganadería dentro del Sector Primario?.....
.....
- ¿Qué tipo de ganadería predomina en España?.....
.....
.....
- España es uno de los principales países pesqueros del mundo, ¿qué lugar ocupa dentro de la Unión Europea, según el tamaño de la flota?..... ¿y según la cantidad de capturas?.....
- ¿Cuál es la zona pesquera más importante de España?.....
- ¿Cuál es el puerto pesquero más importante de España?.....
- ¿Cuáles son los principales puertos en el Golfo de Cádiz?.....
.....
- ¿Cuáles son las principales especies que se capturan en el Golfo de Cádiz?.....
.....
.....
- ¿Cuáles son las zonas pesqueras más importantes de Canarias?.....
.....
- ¿Cuáles son las principales especies que se capturan en Canarias?.....
.....
.....
- ¿Por qué en el litoral mediterráneo las normas pesqueras son tan restrictivas?
.....
.....
.....

Sector Primario en Andalucía

En Andalucía se encuentran algunos de los **suelos agrarios más ricos** de la península Ibérica.

El Sector Primario aporta **menos del 6% tanto al PIB como al empleo** de Andalucía. La producción agraria andaluza se caracteriza por su **extraordinaria variedad**, debido a sus diferentes climas, suelos y sistemas de cultivo.

El uso de nuevas tecnologías hace que la agricultura sea **muy competitiva**, aunque abunda la **trilogía mediterránea** (olivo, vid y cereales), ha experimentado un gran desarrollo en **hortalizas y cítricos**.

El Sector primario andaluz se enfrenta a un triple reto:

- Conseguir **productos de calidad** y que los diferentes productos puedan aparecer en los mercados en épocas del año donde otras zonas no pueden producirlos.
- **Utilización racional y eficiente de los recursos**, especialmente el agua.
- Acabar con **empleos informales y la explotación de inmigrantes**.

La **producción ganadera** se centra principalmente en Sevilla (bovino, caprino y aves), Granada (ovino y conejos) y Málaga (porcino y equino).

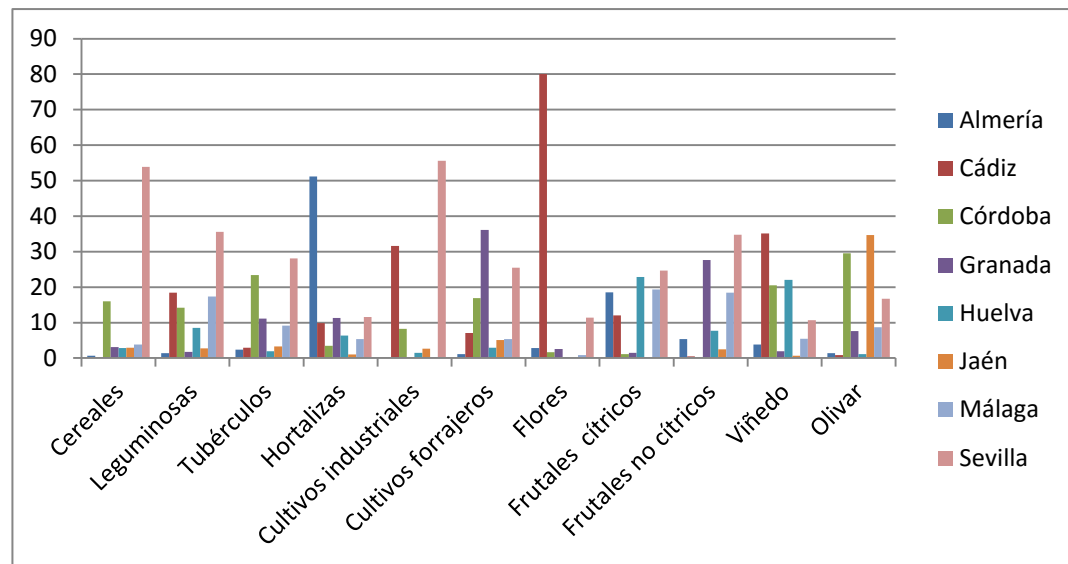
El litoral es la zona agrícola más pujante, debido a los **sistemas de regadío**:

- **Almería** es la más potente, entre el Alto Almanzora, el Campo de Dalías, Níjar y el Bajo Andarax (35.000 ha), en la que predomina los cultivos de hortalizas.
- **Málaga** (25.000 ha), en el valle del Guadalhorce donde destaca los cítricos y en la Axarquía, cultivos subtropicales.
- **Cádiz** (20.000 ha). En la costa noroeste y La Janda destaca la producción de hortalizas y flor; en el Campo de Gibraltar, cítricos.
- **Huelva** (20.000 ha). Las hortalizas son importantes en el Condado – Litoral, con una destacable producción de fresas y en la costa occidental cítricos.
- **Granada**, está especializada en cultivos subtropicales, sobre todo chirimoya y aguacates.

La **pesca en Andalucía** representa el **0,5% de la producción andaluza**. La tendencia es a la **regresión**, por una cierta inadaptación de la flota a las condiciones actuales de la pesca. Por otra parte, los caladeros tradicionales y próximos están sobreexplotados. La **acuicultura** está adquiriendo mayor peso en la actualidad.

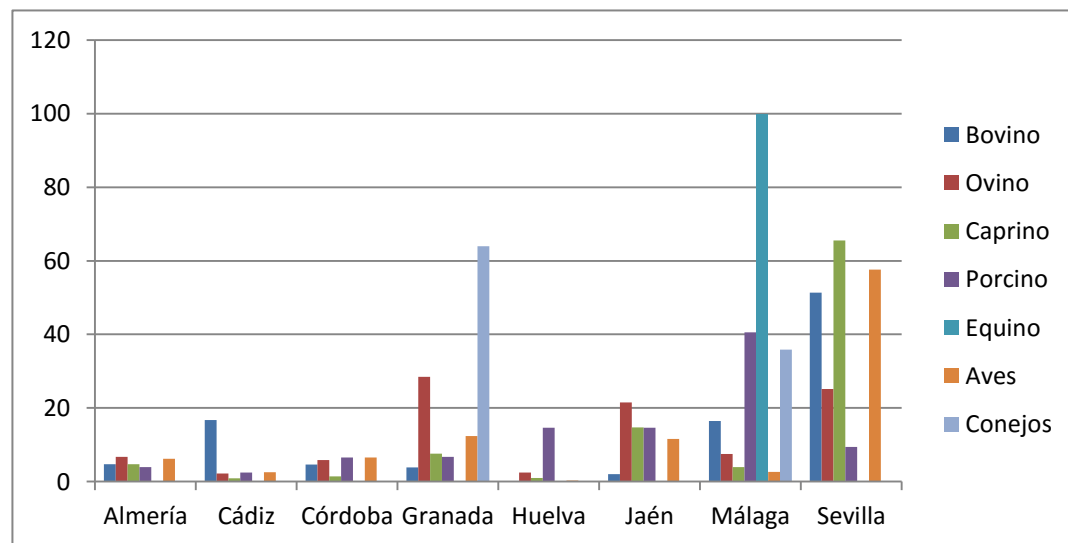
Producción agrícola provincial sobre la producción total de Andalucía

%	Almería	Cádiz	Córdoba	Granada	Huelva	Jaén	Málaga	Sevilla
Cereales	0,7	16,8	15,96	3,07	2,83	2,93	3,8	53,9
Leguminosas	1,35	18,48	14,19	1,72	8,55	2,77	17,38	35,56
Tubérculos	2,43	2,94	23,36	11,1	1,89	3,26	9,15	28,08
Hortalizas	51,19	9,84	3,46	11,34	6,38	1	5,36	11,62
Cultivos industriales		31,57	8,23	0,19	1,52	2,66	0,19	55,63
Cultivos forrajeros	1,13	7,1	16,89	36,12	2,89	5,06	5,32	25,49
Flores	2,86	80	1,68	2,61	0,29	0,34	0,82	11,39
Frutales cítricos	18,57	12,04	1,14	1,47	22,83		19,31	24,63
Frutales no cítricos	5,38	0,51	3,15	27,66	7,67	2,49	18,41	34,73
Viñedo	3,82	35,08	20,53	1,96	22,03	0,63	5,41	10,72
Olivar	1,36	0,83	29,54	7,61	1,13	34,63	8,72	16,74



Producción ganadera provincial sobre la producción total de Andalucía

%	Almería	Cádiz	Córdoba	Granada	Huelva	Jaén	Málaga	Sevilla
Bovino	4,75	16,73	4,64	3,86	0,12	2,01	16,46	51,38
Ovino	6,71	2,18	5,83	28,48	2,5	21,48	7,56	25,19
Caprino	4,76	0,89	1,46	7,61	1,01	14,71	3,99	65,5
Porcino	3,93	2,46	6,57	6,77	14,63	14,63	40,6	9,44
Equino							100	
Aves	6,25	2,55	6,6	12,4	0,31	11,64	2,66	57,57
Conejos				63,96			35,84	



3. Contesta a las siguientes cuestiones

- ¿Qué porcentaje aporta el Sector Primario al PIB de Andalucía?.....
- ¿Por qué es tan extremadamente variada la producción agrícola andaluza?..
.....
.....
- ¿Qué productos agrícolas abundan en Andalucía?.....
.....
- ¿A qué reto se enfrenta el Sector Primario andaluz?
 -
.....
 -
.....
 -
.....
- ¿Dónde se centra la producción ganadera andaluza?.....
.....
- Relaciona mediante flechas

El litoral es la zona agrícola más pujante, debido a los sistemas de regadío:

ALMERIA

- *Es la más potente, entre el Alto Almanzora, el Campo de Dalías, Níjar y el Bajo Andarax (35.000 ha), en la que predomina los cultivos de hortalizas.*

GRANADA

- *En el valle del Guadalhorce (25.000 ha), donde destaca los cítricos y en la Axarquía, cultivos subtropicales.*

HUELVA

- *En la costa noroeste y La Janda destaca la producción de hortalizas y flor; en el Campo de Gibraltar, cítricos. (20.000 ha).*

CÁDIZ

- *Las hortalizas son importantes en el Condado – Litoral, con una destacable producción de fresas y en la costa occidental cítricos. (20.000 ha).*

MÁLAGA

- *Está especializada en cultivos subtropicales, sobre todo chirimoya y aguacates.*

- ¿Qué porcentaje representa la pesca en Andalucía sobre la producción total andaluza?.....
- ¿Cuál es la tendencia de la pesca andaluza?.....
- ¿Cuáles son las dos ciudades andaluzas que tienen mayor producción en cereales sobre la producción total en Andalucía?.....
- ¿Y de leguminosas?.....
- ¿Y de tubérculos?.....
- ¿Y de hortalizas?.....
- ¿Y de cultivos industriales?.....
- ¿Y de cultivos forrajeros?.....
- ¿Y de flores?.....
- ¿Y de frutales cítricos?.....
- ¿Y de viñedo?.....
- ¿Y de olivar?.....
- ¿Cuáles son las dos ciudades andaluzas que tienen mayor producción ganadera en bovino sobre la producción total en Andalucía?.....
.....
- ¿Y de ovino?.....
- ¿Y de caprino?.....
- ¿Y de porcino?.....
- ¿Y de equino?.....
- ¿Y de conejos?.....
- ¿Y de aves?.....