



En el parque hay bastante gente.

Hay tres mamás y dos perros



En el parque hay bastante gente.

Hay dos bebés en su carrito



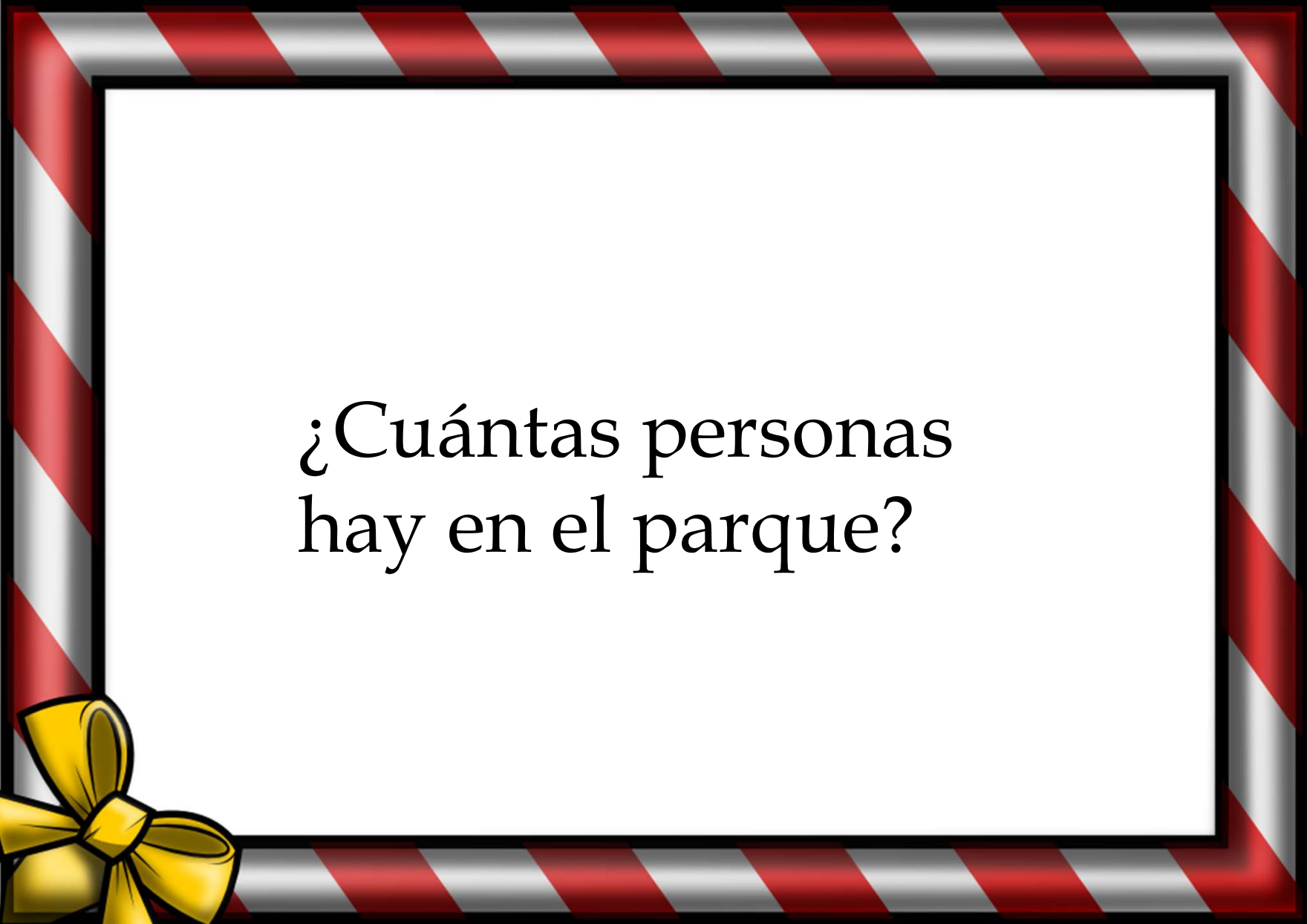
En el parque hay bastante gente.

Hay cinco niños y dos niñas jugando al pilla-pilla



En el parque hay bastante gente.

Hay tres señoras y también hay dos papás.





¿Cuántas personas  
hay en el parque?



**¿Cuánto tendremos  
que gastarnos en el  
Taller de Cocina?**

**Esta semana en el Taller de Cocina vamos a  
preparar un sandwich mixto. Necesitamos:**

- Pan de molde
- Jamón de York
- Queso en lonchas.
- Un poquito de mantequilla.
- La sandwichera del colegio.




**Noelia Suárez Martínez  
Maestra Especialista en  
Audición y Lenguaje**



La tarrina de mantequilla cuesta 2 euros pero no tenemos que comprarla porque nos queda de otras veces.



Hay un queso que cuesta 3 euros y otro que cuesta 2 euros. Vamos a comprar el que tiene el precio más bajo.



El paquete grande de pan de molde cuesta 3 euros.




La sandwichera costó 35 euros pero ya la pagó el colegio el curso pasado.



**El jamón de York en  
formato familiar sale por  
4 euros**



**Cuando vamos a pagar  
sacamos un vale de  
descuento y nos  
rebajan un euro en el  
pan de molde.**



**Necesitamos comprar 2  
paquetes de queso y 1  
paquete de jamón de  
York**



**Si compramos 2  
paquetes de queso nos  
regalan 1 (sólo  
pagamos uno).**

# NOS VAMOS DE EXCURSIÓN AL CAMPO

- Los alumnos de 4º se van a ir de excursión al campo y la teacher Silvia tiene que comprar comida para hacer una barbacoa.
- ¿Qué productos NO merece la pena comprar?





•La fecha de la excursión es el próximo 6 de mayo de 2013 y hoy es 25 de febrero.

*Ummm, ¡que rico!  
choricitos a la brasa.  
Cuestan 5 euros el kilo y  
caducan el 10 de agosto  
de 2013.*



*Filetes de  
hamburguesa; Me  
encantan ! Cuestan 3  
euros el kilo y caduca  
el 6 de abril de 2013.*

*Las chuletas  
tienen muy buen  
precio 8 euros el  
kilo y caducan el  
8 de Mayo de  
2013.*



Miguel y Ana van a comprar con sus padres cosas para celebrar el cumple de Ana.

Compran 8 nubes.

Miguel y Ana van a comprar con sus padres cosas para celebrar el cumple de Ana.

Compran 6 piruletas y 8 chupa-chups.

Miguel y Ana van a comprar con sus padres cosas para celebrar el cumple de Ana.

Cogen también 10 sobres de cromos.

Miguel y Ana van a comprar con sus padres cosas para celebrar el cumple de Ana.

Eligen 6 globos azules y 8 rojos.



Miguel y Ana van a comprar con sus padres cosas para celebrar el cumple de Ana.

Compran 6 bolsas grandes de gusanitos.

Miguel y Ana van a comprar con sus padres cosas para celebrar el cumple de Ana.

Eligen 7 globos verdes.

Miguel y Ana van a comprar con sus padres cosas para celebrar el cumple de Ana.

Escogen 7 fresitas.

Miguel y Ana van a comprar con sus padres cosas para celebrar el cumple de Ana.

Cogen 9 lenguas de pica pica.

¿Cuántos globos compraron?

¿Cuántas chuches compraron en total?

¿Cuántas chuches más que globos compraron?

Marisol Bravo

# En la bolera de los Picapietra se ha juntado mucha gente.

**¿Cuántas  
personas hay en  
la bolera?**



Esther Jaroso

**Están Pedro y su amigo Pablo pidiendo los zapatos en el mostrador al mozo de la bolera. El jefe de Pedro y su mujer les acompañan y esperan su turno.**



**Están Vilma y Betty con dos amigas más.**

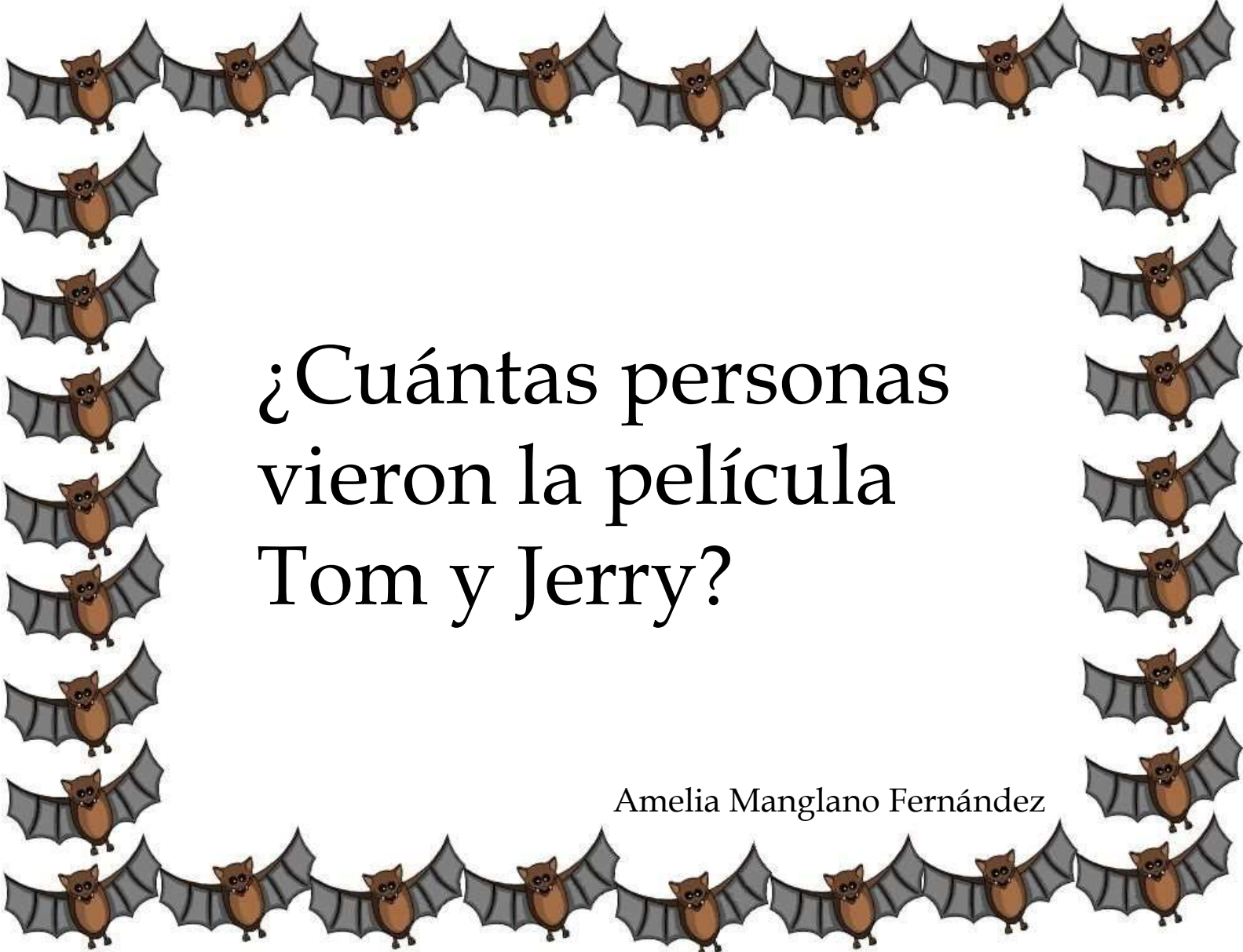


**Están los dos niños  
(la hija de Pedro y  
Vilma y el hijo de  
Pablo y Betty) con  
tres amigos más de la  
escuela.**




**Dino juega con todos  
los niños.**






¿Cuántas personas  
vieron la película  
Tom y Jerry?

Amelia Manglano Fernández



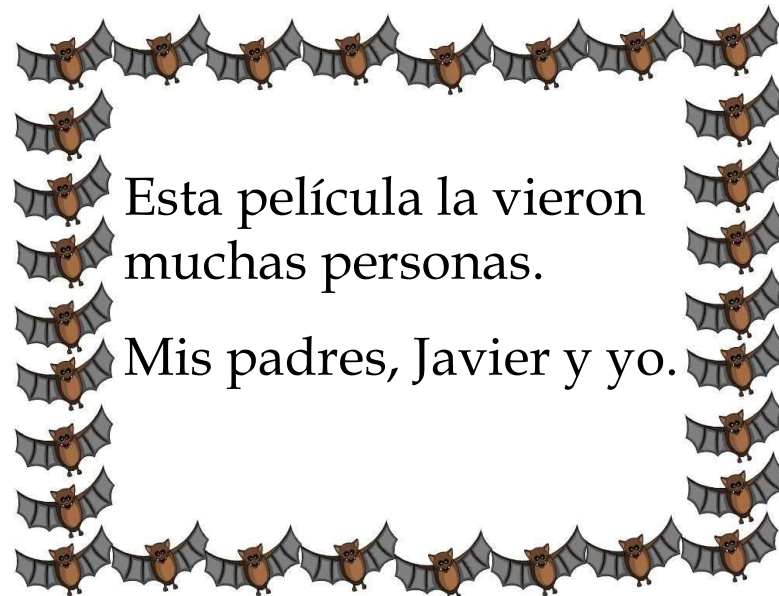
Esta película la vieron  
muchas personas.

25 niñ@s de la clase  
de 1ºA



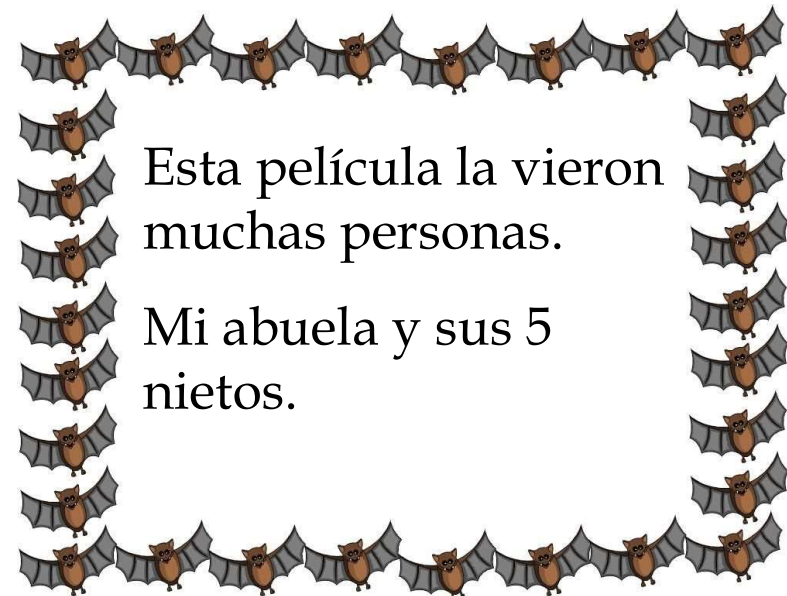
Esta película la vieron  
muchas personas.

Andrea y sus 3  
hermanos.



Esta película la vieron  
muchas personas.

Mis padres, Javier y yo.



Esta película la vieron  
muchas personas.

Mi abuela y sus 5  
nietos.

¿ Qué día puede ir Ana al veterinario a poner la vacuna a su perro ?



Susana Martín Muñoz



1

Los martes y los jueves Ana  
va a clase de baloncesto.



Los viernes cierra la consulta  
del veterinario.



El miércoles celebra su  
cumpleaños en casa.



El jueves tiene que  
estudiar para el examen.



## Diapositiva 17

---

1

raul gonzalez; 07/03/2013

El viernes por la mañana va  
a comprar con su madre.



Los martes y miércoles por la  
mañana queda en el parque  
con sus amigas.



Los Jueves va a comer  
con sus abuelos.




El viernes va al cine con  
sus primos.





Rosa tiene 2 años más  
que Marisa



Luis tiene la mitad de  
años que Marisa

Hoy es el cumple de  
Marisa. ¡¡¡Felicidades!!!



Nerea nació en 2010



Son tres hermanos.

¿Quién es el mayor de los tres?



En un autobús con matrícula 1234-GHY que va de excursión viajan 27 niñas.



En un autobús con matrícula 1234-GHY que va de excursión viajan 23 niños.



En un autobús con matrícula 1234-GHY que va de excursión viaja un profesor.




En un autobús con matrícula 1234-GHY que va de excursión viajan dos profesoras.



¿Cuántas personas adultas viajan en el autobús con matrícula 1234-GHY que va de excursión?


José Antonio Quero Jalón

A decorative border made of black scrollwork, consisting of multiple curved lines that spiral and loop around the central text, creating a frame-like effect.


¿Cuántos niños irán  
a la fiesta de  
cumpleaños de  
Lydia?

Tania Abizu Barrena

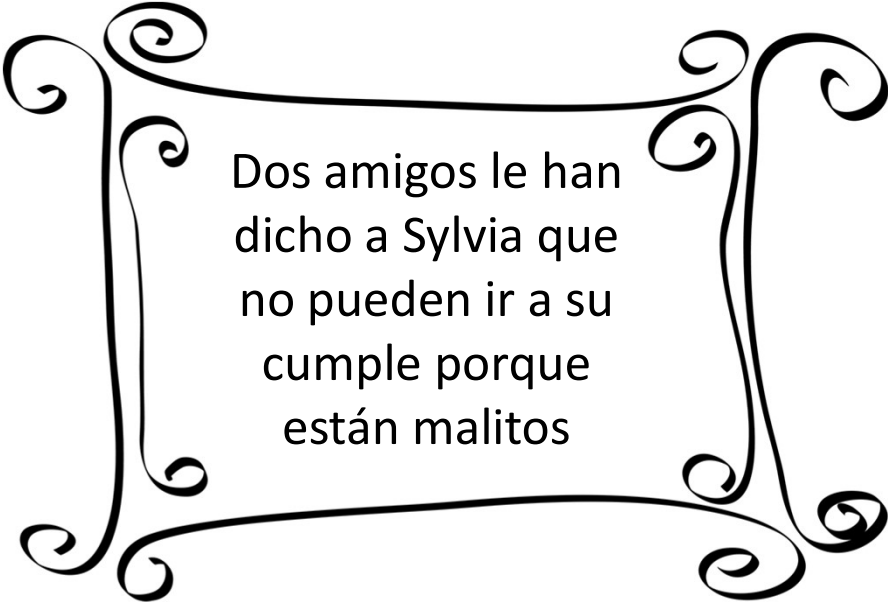





Lydia hoy  
cumple 6  
años



Lydia ha invitado  
a 10 amigos a su  
fiesta de  
cumpleaños

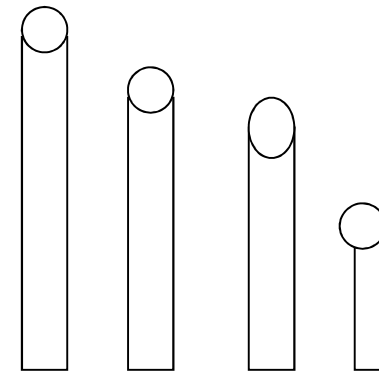


Dos amigos le han  
dicho a Sylvia que  
no pueden ir a su  
cumple porque  
están malitos



En la fiesta  
Lydia regalará  
dos globos a  
cada invitado

Adivina, adivinanza  
¿de qué color es cada tiza,  
que no son blancas?



Atentos a las pistas



La tiza naranja es más corta que la amarilla.

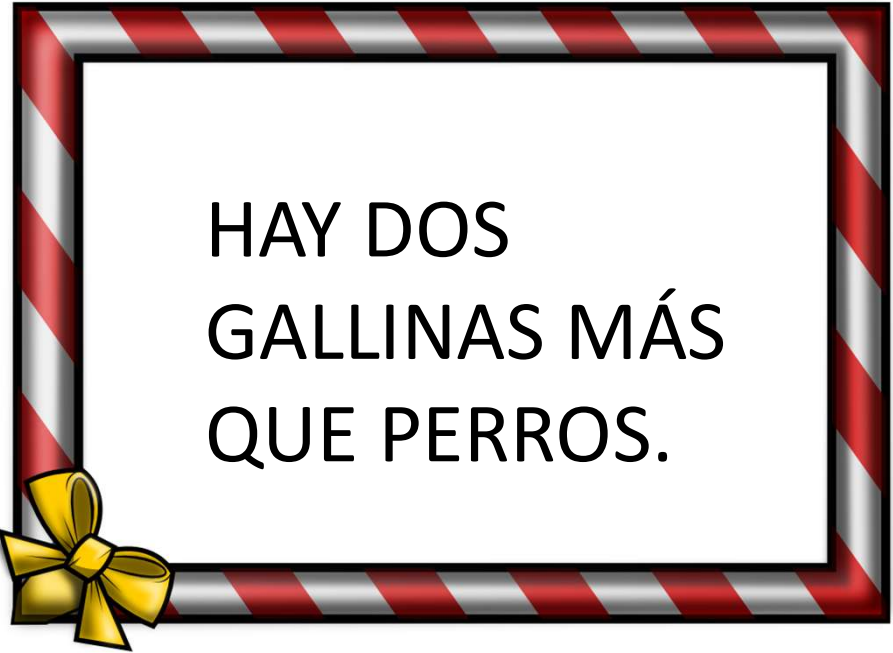
La tiza verde es más corta que la naranja.



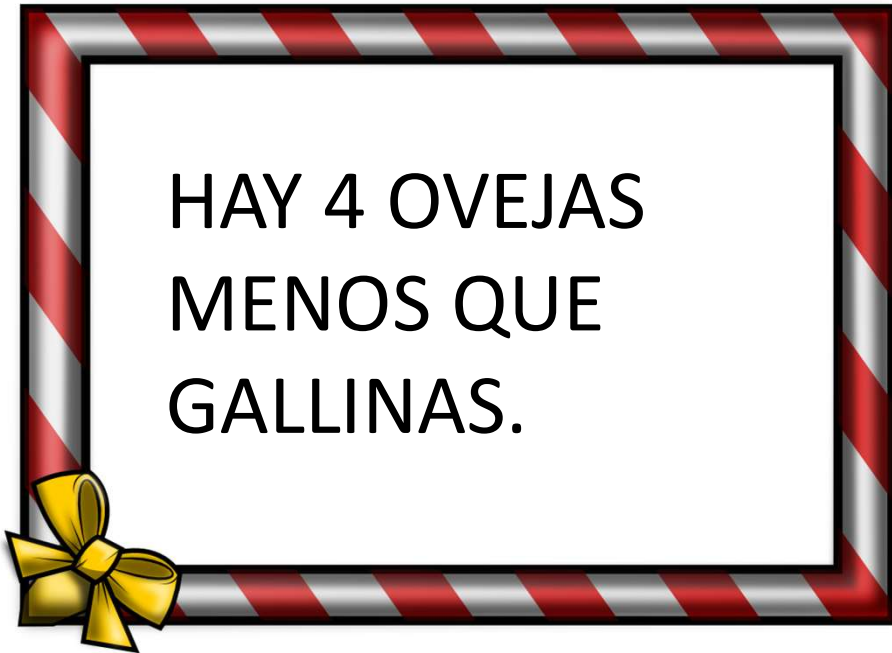
La tiza de marrón oscuro es más corta que la verde.



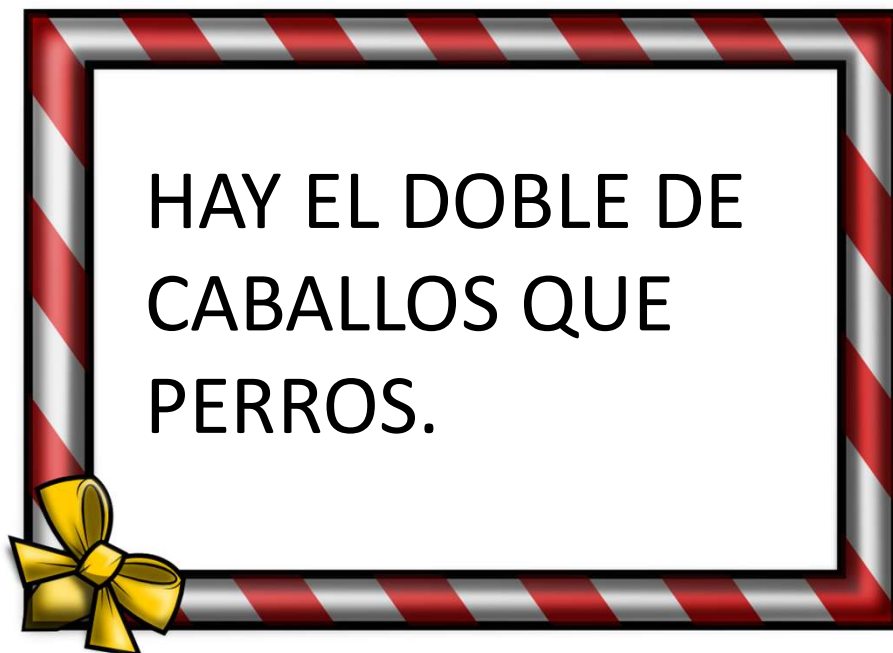
HAY 10  
PERROS.



HAY DOS  
GALLINAS MÁS  
QUE PERROS.



HAY 4 OVEJAS  
MENOS QUE  
GALLINAS.



HAY EL DOBLE DE  
CABALLOS QUE  
PERROS.

¿CUÁNTOS ANIMALES  
HAY EN LA GRANJA?

Mercedes Romero Tajuelo





¿Cuántos niños  
vendrán a mi  
fiesta?

Lorena Santome



¿Cuántos niños vendrán a mi fiesta?

Teo no tiene  
hermanos.



¿Cuántos niños vendrán a mi fiesta?

Ana tiene una  
hermana.



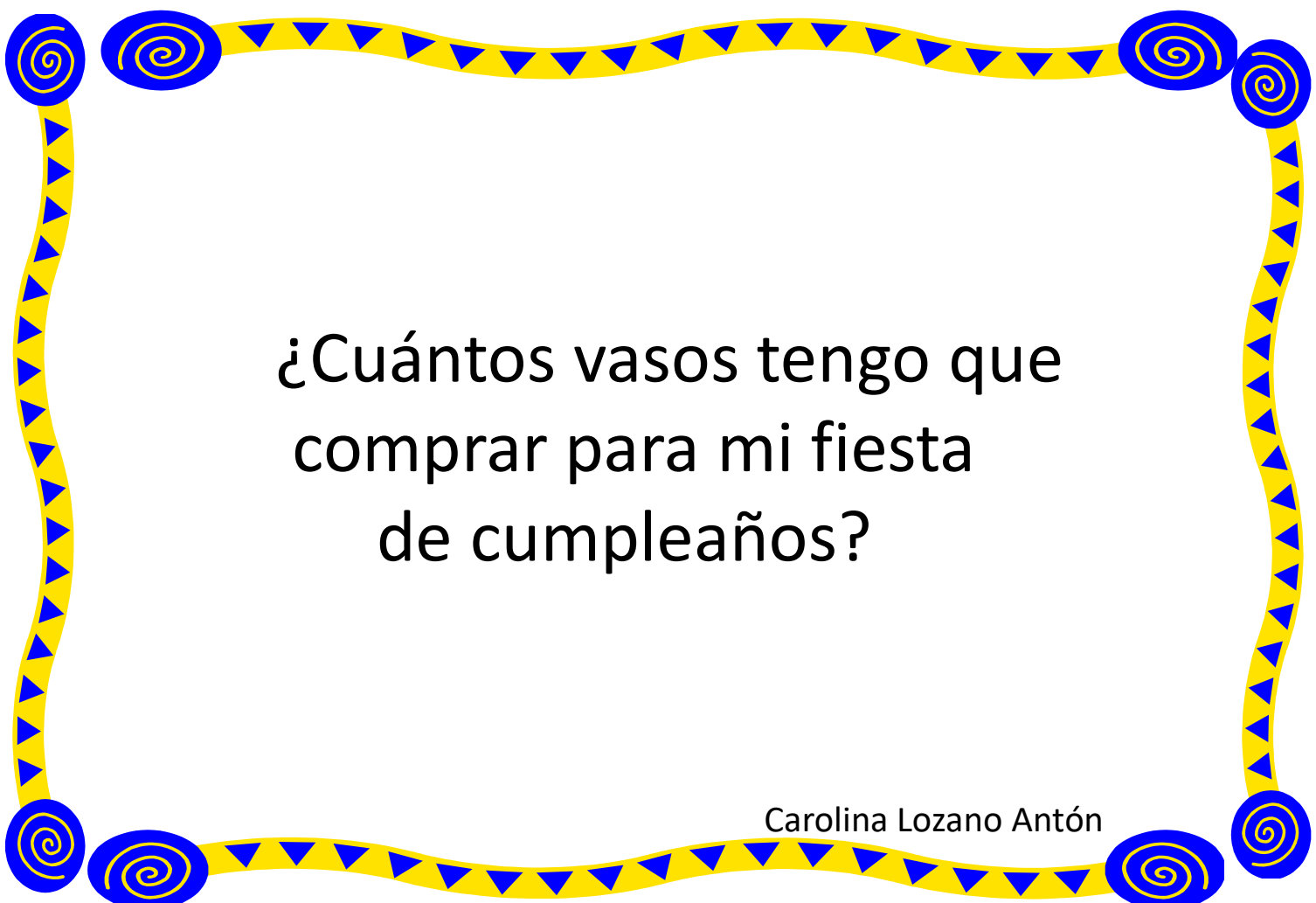
¿Cuántos niños vendrán a mi fiesta?

Invité a Sara,  
Ana y Teo



¿Cuántos niños vendrán a mi fiesta?

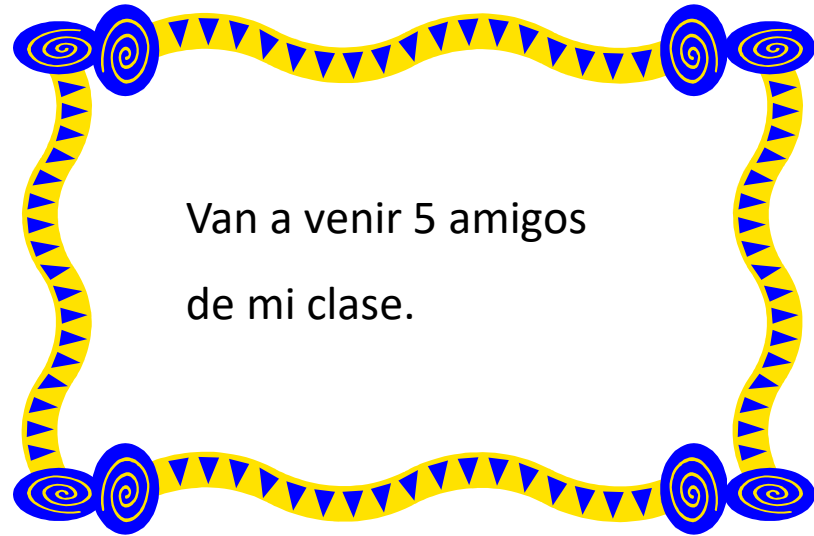
Sara tiene dos  
hermanos



¿Cuántos vasos tengo que  
comprar para mi fiesta  
de cumpleaños?

Carolina Lozano Antón

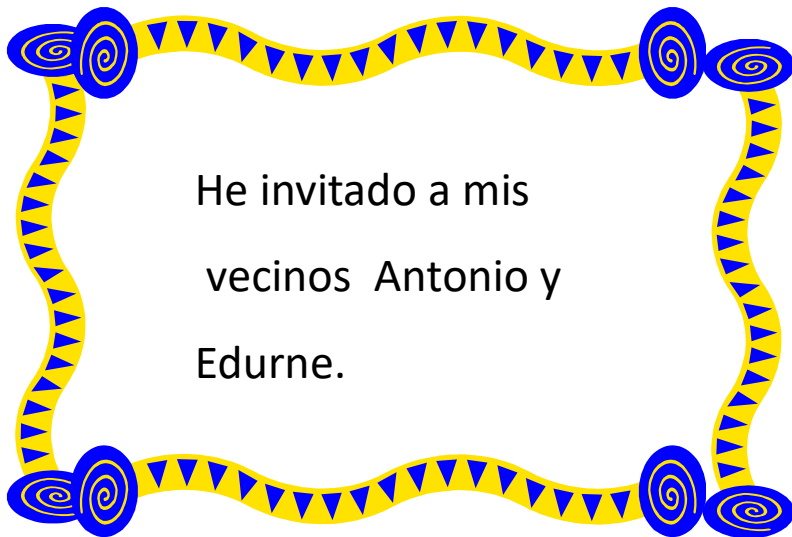




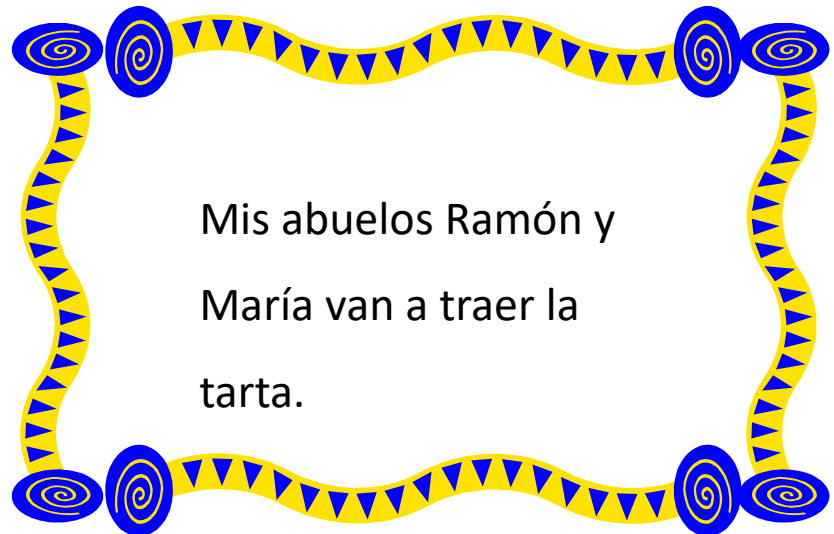
Van a venir 5 amigos  
de mi clase.



A María le gustan  
las patatas.



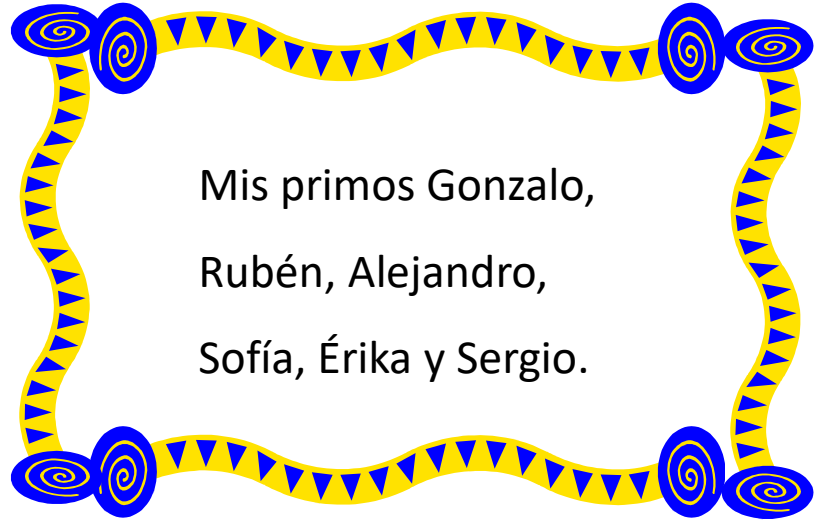
He invitado a mis  
vecinos Antonio y  
Eduarne.





Mis abuelos Ramón y  
María van a traer la  
tarta.



Mi prima Natalia  
Tiene 7 años.



Mis primos Gonzalo,  
Rubén, Alejandro,  
Sofía, Érika y Sergio.



# La familia Picapiedra quiere hacer unas bolsas de cumpleaños para repartir a los compañeros del cole.

Hay que hacer nueve bolsas.  
¿Qué pondrán dentro de cada bolsa?

María Antón Martínez



**A Pedro le gustan  
mucho las bolas de  
chicle y lleva 18 de  
todos los sabores.**



**Vilma y Betty hacen 9  
relojes de arena.**



**Los dos niños quieren participar, sacan dinero de su hucha y compran una bolsa de gusanitos para cada niño.**



**Dino juega con todos los niños y por eso trae 27 huesos de caramelo.**

