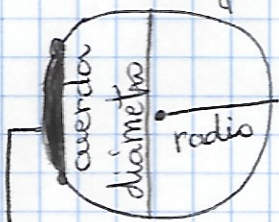


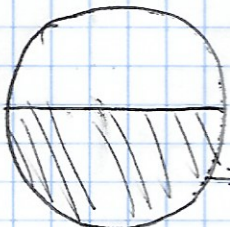
Circunferencia y círculo



arco.

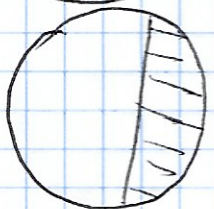


Círculo

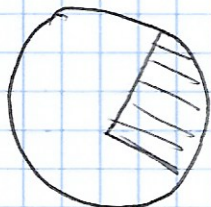


Circunferencia y todos sus puntos del centro

semicírculo

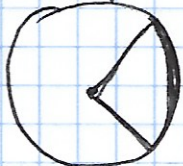


Segmento circular



Sector circular

Ángulos

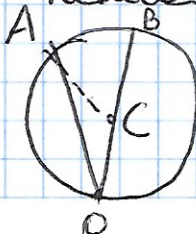


Ángulo central (Vértice centro)



Ángulo inscrito. (Vértice en un punto cualquiera de la circunferencia)

Medida de un ángulo inscrito



Dibujamos un ángulo inscrito que pase por el centro y unimos C con A y forma un triángulo