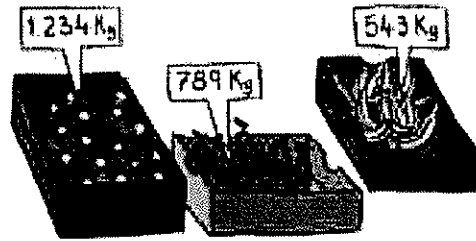


Nombre _____ Fecha _____

Adrián ha comprado hoy 1 caja de manzanas, 1 caja de plátanos y 1 caja de peras. ¿Cuántos kilos de fruta ha comprado?



1. Comprende.

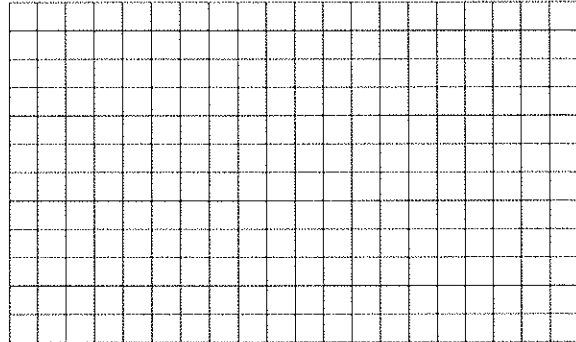
Pregunta: _____

Datos: _____

2. Piensa qué hay que hacer.

- una suma.
- una multiplicación.
- una suma y una multiplicación.

3. Calcula.



Respuesta: _____

Juan necesita un ordenador y una impresora que cuestan 4.532 €. Tiene ahorrados 3.200 €. ¿Cuánto dinero le falta para poder comprar el ordenador y la impresora?

1. Comprende.

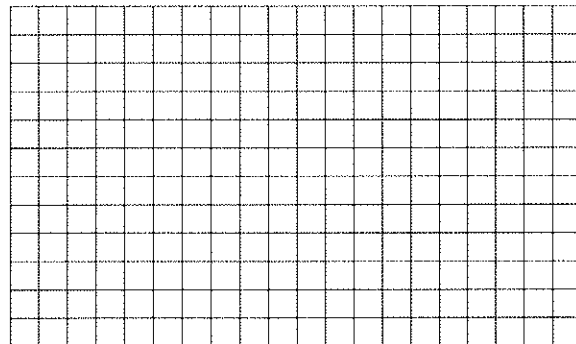
Pregunta: _____

Datos: _____

2. Piensa qué hay que hacer.

- una suma.
- una resta.
- una suma y una resta.

3. Calcula.



Respuesta: _____

Nombre _____ Fecha _____

En mi jardín tengo 21 manzanos como este. ¿Cuántas manzanas puedo recoger?



1. Comprende.

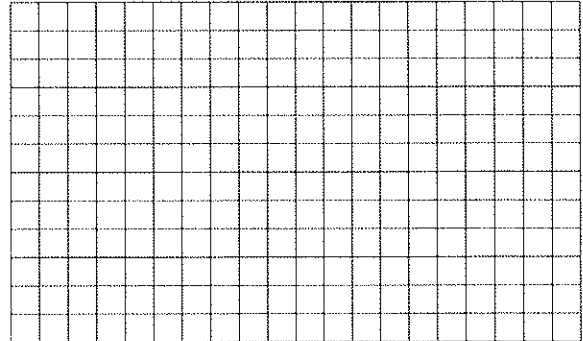
Pregunta: _____

Datos: _____

2. Piensa qué hay que hacer.

- una suma.
- una multiplicación.
- una suma y una multiplicación.

3. Calcula.



Respuesta: _____

En el restaurante de mi pueblo están preparando el salón para la celebración de una boda. Han colocado 110 mesas con 5 sillas cada una. ¿Cuántas personas se podrán sentar?

1. Comprende.

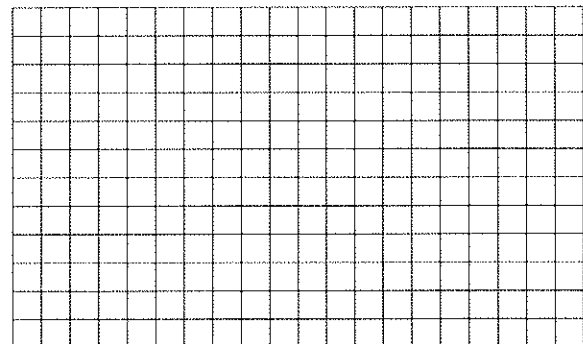
Pregunta: _____

Datos: _____

2. Piensa qué hay que hacer.

- una suma.
- una resta y una suma.
- una multiplicación.

3. Calcula.



Respuesta: _____
