


ACTIVIDAD 1

Coloca los números del 1 al 8 de forma que ningún número coincida en vertical, horizontal o diagonal con su anterior o su posterior.



SOLUCIÓN:

X	2	X
6	8	5
4	1	3
X	7	X

ACTIVIDAD 2

Este cuadro numérico es también un cuadro mágico. La suma de las filas, columnas y diagonales deben sumar siempre 30. Hay tres números equivocados.

¿Qué números son?

3	12	10	5
10	6	7	7
7	8	9	6
11	4	6	13

SOLUCIÓN:

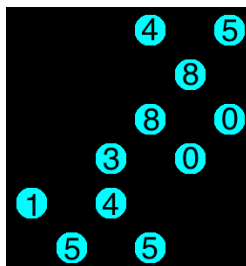
3	12	10	5
10	6	7	7
7	8	9	6
10	4	4	12

ACTIVIDAD 3

Completa esta multiplicación.

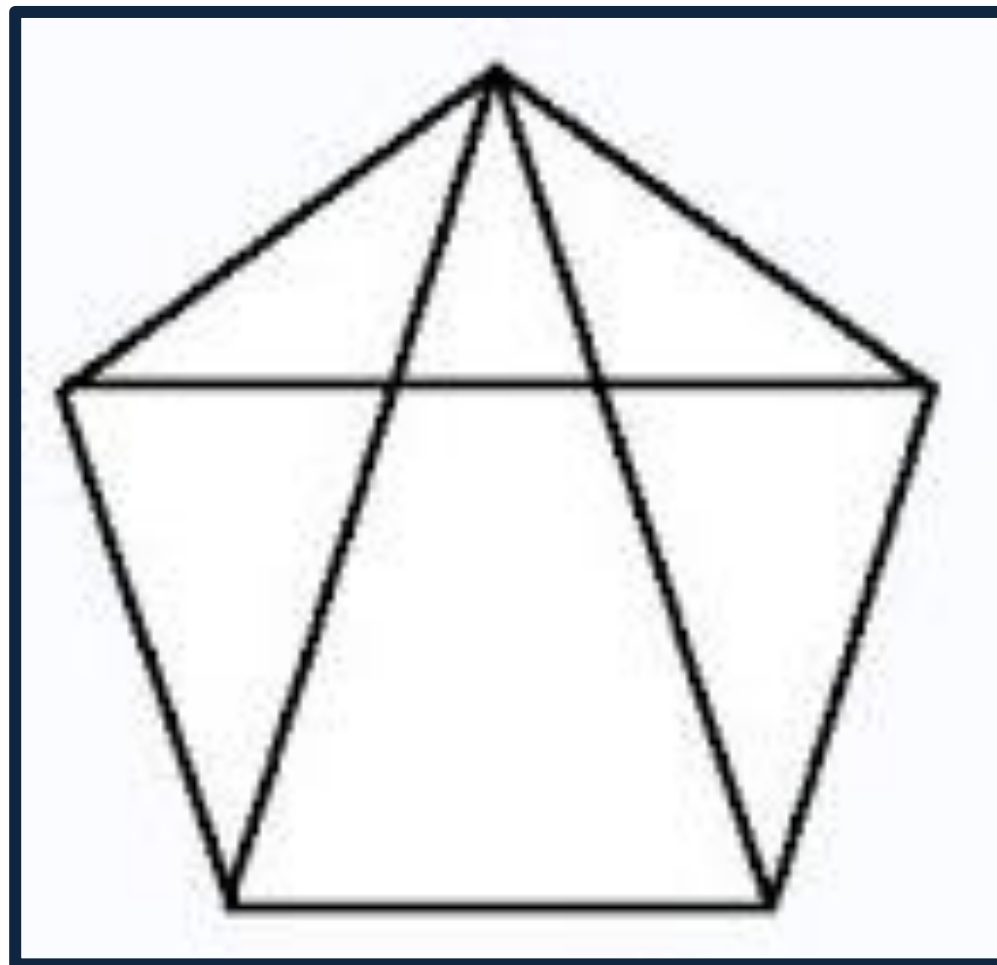
				1	
		x	3		2
				3	
	3		2		
	2		5		
1		8		3	0

SOLUCIÓN:



ACTIVIDAD 4

¿Cuántos triángulos ves en este dibujo?



ACTIVIDAD 5

Coloca los números

0	1	2	3	4	5	6	7	8	9
---	---	---	---	---	---	---	---	---	---

De manera que se pueda efectuar la siguiente suma:

SOLUCIÓN:

	3	6	5		6	7	4		7	8	9		
	7	2	4		8	2	9		2	4	6		
1	0	8	9		1	5	0	3		1	0	3	5