



MATEMÁ - TOCAS

EL NÚMERO DE TRES CIFRAS: CAMINANDO POR LA SUMA CUADERNO DE REFUERZO

CUADERNO DEL ALUMNADO



Rafael Salcedo Robles



BLOQUE 1	DESCOMPOSICIÓN DEL 100 DECENAS COMPLETAS = CENTENA EXACTA	FECHA / /	ACTIVIDAD Nº2
CURSO:	NOMBRE:	ALUMNO/A	Ejercicio 11

100	100		100	100
	40	50	20	
70		50		10

100			100	100
	30	80		
60	70	20	50	90

100	100		100	
	40	30		10
50		70	20	90

	100		100	100
40		10		80
60	70	90	50	

	100			100
80		90	50	
20	60	10	50	70

BLOQUE 1	DESCOMPOSICIÓN DEL 100 DECENAS y UNIDADES = CENTENA EXACTA	FECHA / /	ACTIVIDAD Nº3
CURSO:	NOMBRE:	ALUMNO/A	Ejercicio 12

100	100		100	100
19		88	62	
	23	12		35

100	100		100	100
	32	74	59	67
17		26		

100		100	100	100
45	69	16		73
	31		37	

	100		100	100
53	29	64	78	
47		36		85

	100			100
75	66	23	89	42
25		77	11	

BLOQUE 1	DESCOMPOSICIÓN DEL 100 DECENAS COMPLETAS = CENTENA EXACTA	FECHA / /	ACTIVIDAD Nº2
CURSO:	NOMBRE:	ALUMNO/A	Ejercicio 13

100	100		100	100
		70		80
50	40	30	10	

100			100	100
50	80	90	70	
	20	10		40

100	100		100	
50	70	60	90	80
		40		20

	100		100	100
50	30	70	60	
50		30		20

	100	100		100
40	20	10	20	30
60			80	

BLOQUE 1	DESCOMPOSICIÓN DEL 100 DECENAS COMPLETAS = CENTENA EXACTA	FECHA / /	ACTIVIDAD Nº2
CURSO:	NOMBRE:	ALUMNO/A	Ejercicio 14

100	100		100	100
50		70	80	
	40	30		90

100			100	100
20		10		30
	60	90	50	

100	100		100	
40		80	10	
	70	20		50

	100		100	100
20	50	60		10
80		40	30	

	100			100
90	70	50		60
10		50	20	

BLOQUE 1	DESCOMPOSICIÓN DEL 100 DECENAS COMPLETAS = CENTENA EXACTA	FECHA / /	ACTIVIDAD Nº2
CURSO:	NOMBRE:	ALUMNO/A	Ejercicio 15

100	100		100	100
30		30	60	
	10	70		40

100			100	100
	50	80		70
20	50	20	90	

100	100		100	
10		60	50	90
	80	40		10

	100		100	100
70	20	10		40
30		90	50	

	100			100
50	80	20	90	30
50		80	10	

BLOQUE 1	DESCOMPOSICIÓN DEL 100 DECENAS COMPLETAS = CENTENA EXACTA	FECHA / /	ACTIVIDAD Nº2
CURSO:	NOMBRE:	ALUMNO/A	Ejercicio 16

100	100		100	100
40		30		60
	10	70	50	

100			100	100
	10	80		70
80	90	20	20	

100	100		100	
90		40		30
	20	60	50	70

	100		100	100
10	20	50		50
90		50	90	

	100			100
60	80	20	90	30
40		80	10	

BLOQUE 1	DESCOMPOSICIÓN DEL 100 DECENAS COMPLETAS = CENTENA EXACTA	FECHA / /	ACTIVIDAD Nº2
CURSO:	NOMBRE:	ALUMNO/A	Ejercicio 17

100	100		100	100
60		90		50
	30	10	20	

100			100	100
30	40	50	20	
	60	50		90

100	100		100	
	70	60	10	80
50		40		20

	100		100	100
70	20	10		50
30		90	60	

	100			100
20		30	50	10
80	40	70	50	

BLOQUE 1	DESCOMPOSICIÓN DEL 100 DECENAS COMPLETAS = CENTENA EXACTA	FECHA / /	ACTIVIDAD Nº2
CURSO:	NOMBRE:	ALUMNO/A	Ejercicio 18

100	100		100	100
	50	80	30	
60		20		10

100			100	100
20	60	10		70
	40	90	90	

100	100		100	100
	30	50	20	
10		50		50

	100		100	100
20		10		40
80	20	90	70	

	100			100
60	50	20	50	
40		80	50	30

BLOQUE 1	DESCOMPOSICIÓN DEL 100 DECENAS y UNIDADES = CENTENA EXACTA	FECHA / /	ACTIVIDAD Nº3
CURSO:	NOMBRE:	ALUMNO/A	Ejercicio 11

100	100		100	100
	64		44	
55		25		62

100	100		100	100
	48	37		35
42		63	71	

100		100	100	100
32	18	58		32
	82		65	

	100		100	100
17	49	42	81	
83		58		72

	100			100
66	39	51	27	62
34		49	73	

BLOQUE 1	DESCOMPOSICIÓN DEL 100 DECENAS y UNIDADES = CENTENA EXACTA	FECHA / /	ACTIVIDAD Nº3
CURSO:	NOMBRE:	ALUMNO/A	Ejercicio 12

100	100		100	100
19		88	62	
	23	12		35

100	100		100	100
	32	74	59	67
17		26		

100		100	100	100
45	69	16		73
	31		37	

	100		100	100
53	29	64	78	
47		36		85

	100			100
75	66	23	89	42
25		77	11	

BLOQUE 1	DESCOMPOSICIÓN DEL 100 DECENAS y UNIDADES = CENTENA EXACTA	FECHA / /	ACTIVIDAD Nº3
CURSO:	NOMBRE:	ALUMNO/A	Ejercicio 13

100	100		100	100
	37	42	21	
52		58		91

100	100		100	100
61		86	34	
	79	14		12

100		100	100	100
	96	29		11
19	4		2	

	100		100	100
51	31	25	16	
49		75		47

	100	100	100	100
16				
84	23	37	8	22

BLOQUE 1	DESCOMPOSICIÓN DEL 100 DECENAS y UNIDADES = CENTENA EXACTA	FECHA / /	ACTIVIDAD Nº3
CURSO:	NOMBRE:	ALUMNO/A	Ejercicio 14

100	100		100	100
25		61		94
	42	39	83	

100	100		100	100
	37	41	78	
13		59		86

100		100	100	100
93	16		62	
	84	76		51

	100		100	100
24	38	43		17
76		47	89	

	100			100
49		36	79	58
51	19	64	11	

BLOQUE 1	DESCOMPOSICIÓN DEL 100 DECENAS y UNIDADES = CENTENA EXACTA	FECHA / /	ACTIVIDAD Nº3
CURSO:	NOMBRE:	ALUMNO/A	Ejercicio 15

100	100		100	100
22		25	50	
	45	75		63

100	100		100	100
	91	17		44
86		23	15	

100		100	100	100
38	46		31	
	54	29		47

	100		100	100
59		8	69	
41	9	92		76

	100			100
27	7	45	89	34
73		55	11	

BLOQUE 1	DESCOMPOSICIÓN DEL 100 DECENAS y UNIDADES = CENTENA EXACTA	FECHA / /	ACTIVIDAD Nº3
CURSO:	NOMBRE:	ALUMNO/A	Ejercicio 16

100	100		100	100
25	31	55	85	15
		45		

100	100		100	100
	86	9		56
63		91	37	

100		100	100	100
34	67			65
	33	12	47	

	100		100	100
51		88		77
49	23	12	13	

	100			100
78		75	1	65
22	54	25	99	

BLOQUE 1	DESCOMPOSICIÓN DEL 100 DECENAS y UNIDADES = CENTENA EXACTA	FECHA / /	ACTIVIDAD Nº3
CURSO:	NOMBRE:	ALUMNO/A	Ejercicio 17

100	100		100	100
35		39	27	
	42	61		68

100	100		100	100
	11	72		34
25		28	49	

100		100	100	100
65	17		33	
		58		12

	100		100	100
55		47	19	
45	62	53		78

	100			100
95		34	29	57
5	23	66	71	

BLOQUE 1	DESCOMPOSICIÓN DEL 100 DECENAS y UNIDADES = CENTENA EXACTA	FECHA / /	ACTIVIDAD Nº3
CURSO:	NOMBRE:	ALUMNO/A	Ejercicio 18

100	100		100	100
	87	99	55	
76		1		62

100	100		100	100
31		15		82
	26	85	57	

100		100	100	100
	14		51	
25	86	79		78

	100		100	100
88		77		25
12	57	23	85	

	100			100
11	66	97	18	35
89		3	82	

BLOQUE 1	SUMAS DE DECENAS COMPLETAS MAYORES DE 100	FECHA / /	ACTIVIDAD Nº4
CURSO:	NOMBRE:	ALUMNO/A	Ejercicio 11

$40 + 70 =$	$50 + 10 + 60 =$
$60 + 30 + 40 =$	$40 + 40 + 30 =$
$70 + 50 =$	$80 + 20 + 40 =$
$90 + 40 =$	$50 + 30 + 30 =$
$80 + 40 =$	$30 + 90 =$

BLOQUE 1	SUMAS DE DECENAS COMPLETAS MAYORES DE 100	FECHA / /	ACTIVIDAD Nº4
CURSO:	NOMBRE:	ALUMNO/A	Ejercicio 12

$70 + 90 =$	$20 + 40 + 90 =$
$80 + 60 =$	$10 + 80 + 40 =$
$30 + 90 =$	$50 + 60 + 30 =$
$90 + 90 =$	$70 + 50 + 60 =$
$60 + 50 =$	$90 + 30 + 70 =$

BLOQUE 1	SUMAS DE DECENAS COMPLETAS MAYORES DE 100	FECHA / /	ACTIVIDAD Nº4
CURSO:	NOMBRE:	ALUMNO/A	Ejercicio 13

$60 + 20 + 40 =$	$80 + 40 + 30 =$
$90 + 30 + 30 =$	$40 + 90 =$
$70 + 20 + 50 =$	$10 + 30 + 90 =$
$80 + 80 =$	$10 + 70 + 50 =$
$70 + 30 + 30 =$	$20 + 40 + 50 =$

BLOQUE 1	SUMAS DE DECENAS COMPLETAS MAYORES DE 100	FECHA / /	ACTIVIDAD Nº4
CURSO:	NOMBRE:	ALUMNO/A	Ejercicio 14

$20 + 90 =$	$80 + 40 =$
$70 + 60 =$	$30 + 50 =$
$40 + 70 =$	$50 + 90 =$
$50 + 80 + 10 =$	$60 + 80 + 30 =$
$20 + 40 + 60 =$	$90 + 70 + 10 =$

BLOQUE 1	SUMAS DE DECENAS COMPLETAS MAYORES DE 100	FECHA / /	ACTIVIDAD Nº4
CURSO:	NOMBRE:	ALUMNO/A	Ejercicio 15

$40 + 20 + 70 =$	$70 + 80 =$
$80 + 80 =$	$90 + 30 =$
$40 + 70 =$	$50 + 90 =$
$50 + 30 + 60 =$	$60 + 60 =$
$20 + 90 =$	$20 + 60 + 80 =$

BLOQUE 1	SUMAS DE DECENAS COMPLETAS MAYORES DE 100	FECHA / /	ACTIVIDAD Nº4
CURSO:	NOMBRE:	ALUMNO/A	Ejercicio 16

$20 + 20 + 90 =$	$70 + 70 =$
$60 + 60 =$	$10 + 50 + 80 =$
$90 + 30 =$	$40 + 90 =$
$20 + 60 + 80 =$	$10 + 60 + 50 =$
$50 + 30 + 60 =$	$20 + 90 =$

BLOQUE 1	SUMAS DE DECENAS COMPLETAS MAYORES DE 100	FECHA / /	ACTIVIDAD Nº4
CURSO:	NOMBRE:	ALUMNO/A	Ejercicio 17

$60 + 70 =$	$40 + 50 + 90 =$
$90 + 30 =$	$70 + 60 + 60 =$
$50 + 90 =$	$20 + 70 + 40 =$
$40 + 80 =$	$40 + 40 + 70 =$
$50 + 80 =$	$90 + 30 + 40 =$

BLOQUE 1	SUMAS DE DECENAS COMPLETAS MAYORES DE 100	FECHA / /	ACTIVIDAD Nº4
CURSO:	NOMBRE:	ALUMNO/A	Ejercicio 18

$50 + 70 =$	$80 + 60 =$
$20 + 90 =$	$10 + 70 + 30 =$
$40 + 70 =$	$50 + 50 + 50 =$
$30 + 80 + 60 =$	$70 + 40 + 60 =$
$50 + 60 =$	$60 + 60 =$

BLOQUE 1	SUMAS DE DECENAS MAYORES DE 100 Y UNIDADES MENORES DE 10	FECHA / /	ACTIVIDAD Nº5
CURSO:	NOMBRE:	ALUMNO/A	Ejercicio 11

$74 + 84 =$	$20 + 47 + 71 =$
$63 + 11 + 45 =$	$82 + 20 + 37 =$
$1 + 52 + 73 =$	$72 + 72 =$
$83 + 3 + 73 =$	$40 + 45 + 54 =$
$80 + 88 =$	$34 + 7 + 63 + 21 =$

BLOQUE 1	SUMAS DE DECENAS MAYORES DE 100 Y UNIDADES MENORES DE 10	FECHA / /	ACTIVIDAD Nº5
CURSO:	NOMBRE:	ALUMNO/A	Ejercicio 12

$71 + 44 =$	$48 + 81 =$
$34 + 95 =$	$26 + 93 =$
$52 + 74 =$	$82 + 45 =$
$62 + 77 =$	$94 + 52 =$
$81 + 36 + 22 =$	$43 + 61 + 72 =$

BLOQUE 1	SUMAS DE DECENAS MAYORES DE 100 Y UNIDADES MENORES DE 10	FECHA / /	ACTIVIDAD Nº5
CURSO:	NOMBRE:	ALUMNO/A	Ejercicio 13

65 + 62 =	92 + 35 + 42 =
41 + 70 + 5 =	84 + 34 =
58 + 71 =	95 + 22 =
33 + 86 =	49 + 80 + 30 =
28 + 91 =	33 + 66 + 30 =

BLOQUE 1	SUMAS DE DECENAS MAYORES DE 100 Y UNIDADES MENORES DE 10	FECHA / /	ACTIVIDAD Nº5
CURSO:	NOMBRE:	ALUMNO/A	Ejercicio 14

$32 + 95 =$	$67 + 92 =$
$84 + 73 =$	$54 + 75 =$
$21 + 86 =$	$48 + 71 =$
$42 + 45 + 31 =$	$26 + 82 + 11 =$
$23 + 94 + 62 =$	$46 + 71 + 42 =$

BLOQUE 1	SUMAS DE DECENAS MAYORES DE 100 Y UNIDADES MENORES DE 10	FECHA / /	ACTIVIDAD Nº5
CURSO:	NOMBRE:	ALUMNO/A	Ejercicio 15

62 + 74 =	57 + 61 =
38 + 51 + 50 =	45 + 92 =
63 + 12 + 41 =	32 + 55 + 33 =
74 + 45 =	82 + 46 =
26 + 62 + 31 =	31 + 47 + 70 =

BLOQUE 1	SUMAS DE DECENAS MAYORES DE 100 Y UNIDADES MENORES DE 10	FECHA / /	ACTIVIDAD Nº5
CURSO:	NOMBRE:	ALUMNO/A	Ejercicio 16

92 + 24 =	68 + 51 =
51 + 42 + 25 =	45 + 82 =
51 + 25 + 83 =	78 + 51 =
82 + 26 =	23 + 62 + 41 =
62 + 16 + 40 =	74 + 15 + 32 =

BLOQUE 1	SUMAS DE DECENAS MAYORES DE 100 Y UNIDADES MENORES DE 10	FECHA / /	ACTIVIDAD Nº5
CURSO:	NOMBRE:	ALUMNO/A	Ejercicio 17

68 + 51 =	33 + 42 + 14 =
32 + 77 =	41 + 23 + 64 =
84 + 64 =	72 + 35 + 41 =
71 + 48 =	83 + 61 + 51 =
92 + 34 =	73 + 44 + 12 =

BLOQUE 1	SUMAS DE DECENAS MAYORES DE 100 Y UNIDADES MENORES DE 10	FECHA / /	ACTIVIDAD Nº5
CURSO:	NOMBRE:	ALUMNO/A	Ejercicio 18

$24 + 85 =$	$33 + 92 =$
$85 + 43 =$	$43 + 76 =$
$12 + 97 =$	$64 + 55 =$
$33 + 76 =$	$65 + 82 =$
$44 + 71 =$	$44 + 84 =$

BLOQUE 1	SUMAS DE DECENAS MAYORES DE 100 Y UNIDADES MAYORES DE 10	FECHA / /	ACTIVIDAD Nº6
CURSO:	NOMBRE:	ALUMNO/A	Ejercicio 11

$47 + 85 =$	$63 + 24 + 59 =$
$58 + 93 =$	$42 + 36 + 75 =$
$72 + 49 =$	$53 + 48 + 74 =$
$84 + 68 =$	$91 + 58 + 34 =$
$76 + 48 =$	$66 + 25 + 17 =$

BLOQUE 1	SUMAS DE DECENAS MAYORES DE 100 Y UNIDADES MAYORES DE 10	FECHA / /	ACTIVIDAD Nº6
CURSO:	NOMBRE:	ALUMNO/A	Ejercicio 12

$26 + 45 + 83 =$	$86 + 36 + 5 =$
$78 + 43 + 51 =$	$37 + 96 =$
$48 + 21 + 85 =$	$63 + 72 + 17 =$
$2 + 44 + 69 =$	$18 + 63 + 66 =$
$85 + 78 =$	$23 + 64 + 87 =$

BLOQUE 1	SUMAS DE DECENAS MAYORES DE 100 Y UNIDADES MAYORES DE 10	FECHA / /	ACTIVIDAD Nº6
CURSO:	NOMBRE:	ALUMNO/A	Ejercicio 13

$36 + 94 =$	$75 + 45 =$
$93 + 57 =$	$61 + 89 =$
$25 + 43 + 52 =$	$72 + 34 + 64 =$
$18 + 21 + 91 =$	$44 + 22 + 86 =$
$52 + 43 + 75 =$	$87 + 61 + 11 =$

BLOQUE 1	SUMAS DE DECENAS MAYORES DE 100 Y UNIDADES MAYORES DE 10	FECHA / /	ACTIVIDAD Nº6
CURSO:	NOMBRE:	ALUMNO/A	Ejercicio 14

$43 + 26 + 75 =$	$57 + 84 =$
$39 + 92 =$	$66 + 76 =$
$27 + 95 =$	$16 + 56 + 72 =$
$81 + 33 + 48 =$	$58 + 77 =$
$63 + 41 + 15 =$	$28 + 35 + 76 =$

BLOQUE 1	SUMAS DE DECENAS MAYORES DE 100 Y UNIDADES MAYORES DE 10	FECHA / /	ACTIVIDAD Nº6
CURSO:	NOMBRE:	ALUMNO/A	Ejercicio 15

$25 + 65 + 41 =$	$86 + 58 =$
$16 + 56 + 76 =$	$39 + 92 =$
$45 + 35 + 67 =$	$27 + 95 =$
$28 + 35 + 76 =$	$63 + 41 + 15 =$
$81 + 33 + 48 =$	$58 + 77 =$

BLOQUE 1	SUMAS DE DECENAS MAYORES DE 100 Y UNIDADES MAYORES DE 10	FECHA / /	ACTIVIDAD Nº6
CURSO:	NOMBRE:	ALUMNO/A	Ejercicio 16

64 + 88 + 16 =	57 + 36 + 51 =
85 + 28 + 47 =	19 + 63 + 59 =
42 + 58 + 49 =	95 + 34 + 27 =
66 + 48 + 14 =	33 + 46 + 85 =
96 + 61 + 54 =	76 + 43 + 84 =

BLOQUE 1	SUMAS DE DECENAS MAYORES DE 100 Y UNIDADES MAYORES DE 10	FECHA / /	ACTIVIDAD Nº6
CURSO:	NOMBRE:	ALUMNO/A	Ejercicio 17

$24 + 89 =$	$33 + 99 =$
$85 + 46 =$	$43 + 77 =$
$13 + 44 + 75 =$	$69 + 59 =$
$33 + 77 =$	$65 + 85 =$
$24 + 79 + 31 =$	$71 + 49 =$

BLOQUE 2	SUMAS DE VARIAS DECENAS MENORES DE 1000	FECHA / /	ACTIVIDAD Nº7
CURSO:	NOMBRE:	ALUMNO/A	Ejercicio 11

$300 + 100 =$	$300 + 100 + 500 =$
$500 + 400 =$	$200 + 100 =$
$300 + 300 =$	$400 + 200 =$
$600 + 100 =$	$500 + 200 =$
$700 + 200 =$	$800 + 100 =$

BLOQUE 2	SUMAS CON CENTENAS Y DECENAS IGUALES AL 100	FECHA / /	ACTIVIDAD Nº8
CURSO:	NOMBRE:	ALUMNO/A	Ejercicio 11

$280 + 20 =$	$530 + 70 + 250 + 50 =$
$640 + 10 + 50 =$	$60 + 240 + 110 + 90 =$
$170 + 30 + 420 + 80 =$	$340 + 260 =$
$220 + 170 + 10 =$	$790 + 110 =$
$40 + 140 + 220 =$	$370 + 330 =$

BLOQUE 3	SUMAS CON CENTENAS Y DECENAS MAYORES QUE 100	FECHA / /	ACTIVIDAD Nº9
CURSO:	NOMBRE:	ALUMNO/A	Ejercicio 11

260 + 170 =	320 + 290 =
470 + 250 =	390 + 280 =
440 + 160 =	430 + 390 =
410 + 290 =	570 + 150 =
680 + 50 + 170 =	570 + 240 + 10 =

BLOQUE 3	SUMAS CON CENTENAS Y DECENAS MAYORES QUE 100	FECHA / /	ACTIVIDAD Nº9
CURSO:	NOMBRE:	ALUMNO/A	Ejercicio 12

$260 + 150 + 310 =$	$310 + 180 + 420 =$
$150 + 470 =$	$150 + 140 + 130 =$
$570 + 260 + 110 =$	$290 + 240 + 210 =$
$680 + 170 =$	$60 + 70 + 80 + 10 =$
$480 + 480 =$	$750 + 130 + 10 + 20 =$

BLOQUE 3	SUMAS CON CENTENAS Y DECENAS MAYORES QUE 100	FECHA / /	ACTIVIDAD Nº9
CURSO:	NOMBRE:	ALUMNO/A	Ejercicio 13

$320 + 290 =$	$450 + 280 =$
$290 + 170 =$	$370 + 240 =$
$150 + 240 + 350 =$	$330 + 190 + 210 =$
$30 + 120 + 340 + 220 =$	$50 + 210 + 330 + 460 =$
$170 + 30 + 210 + 80 =$	$410 + 360 + 40 + 30 =$

BLOQUE 3	SUMAS CON CENTENAS Y DECENAS MAYORES QUE 100	FECHA / /	ACTIVIDAD Nº9
CURSO:	NOMBRE:	ALUMNO/A	Ejercicio 14

160 + 150 =	120 + 260 + 150 =
230 + 180 =	270 + 120 + 250 =
170 + 290 =	260 + 360 + 150 =
240 + 460 + 130	360 + 170 + 150 + 280 =
190 + 280 + 370 =	230 + 180 + 280 + 120 =

BLOQUE 3	SUMAS CON CENTENAS Y DECENAS MAYORES QUE 100	FECHA / /	ACTIVIDAD Nº9
CURSO:	NOMBRE:	ALUMNO/A	Ejercicio 15

$110 + 290 + 70 =$	$380 + 230 =$
$140 + 280 + 30 =$	$620 + 190 =$
$50 + 340 + 140 + 110 =$	$430 + 480 =$
$20 + 270 + 110 + 150 =$	$550 + 370 =$
$60 + 120 + 280 + 130 =$	$740 + 190 =$

BLOQUE 3	SUMAS CON CENTENAS Y DECENAS MAYORES QUE 100	FECHA / /	ACTIVIDAD Nº9
CURSO:	NOMBRE:	ALUMNO/A	Ejercicio 16

130 + 290 =	240 + 180 =
530 + 280 =	460 + 150 =
740 + 170 =	670 + 170 =
440 + 390 =	290 + 280 =
330 + 380 =	270 + 490 =

BLOQUE 3	SUMAS CON CENTENAS Y DECENAS MAYORES QUE 100	FECHA / /	ACTIVIDAD Nº9
CURSO:	NOMBRE:	ALUMNO/A	Ejercicio 17

250 + 260 =	690 + 220 =
360 + 50 + 20 =	730 + 70 + 30 =
240 + 210 + 60 =	440 + 250 + 30 =
620 + 60 + 230 =	750 + 60 + 110 =
420 + 190 + 250 =	120 + 440 + 370 =

BLOQUE 3	SUMAS CON CENTENAS Y DECENAS MAYORES QUE 100	FECHA / /	ACTIVIDAD Nº9
CURSO:	NOMBRE:	ALUMNO/A	Ejercicio 18

150 + 330 =	170 + 250 =
330 + 510 =	240 + 380 =
480 + 120 + 140 =	230 + 450 + 130 =
370 + 240 + 120 =	150 + 580 + 200 =
410 + 320 + 80 + 170 =	230 + 180 + 210 + 350 =

BLOQUE 3	SUMAS CON CENTENAS Y DECENAS MAYORES QUE 100	FECHA / /	ACTIVIDAD Nº9
CURSO:	NOMBRE:	ALUMNO/A	Ejercicio 19

$290 + 350 =$	$250 + 70 =$
$40 + 50 + 220 =$	$390 + 240 =$
$380 + 10 + 310 =$	$680 + 350 + 10 =$
$750 + 40 + 130 =$	$90 + 230 =$
$50 + 170 + 110 =$	$790 + 140 =$

BLOQUE 3	SUMAS CON CENTENAS Y DECENAS MAYORES QUE 100	FECHA / /	ACTIVIDAD Nº9
CURSO:	NOMBRE:	ALUMNO/A	Ejercicio 20

260 + 180=	570 + 140=
370 + 140=	640 + 290=
280 + 260=	330 + 290=
150 + 380=	350 + 390=
220 + 180=	180 + 240=

BLOQUE 3	SUMAS CON CENTENAS Y DECENAS MAYORES QUE 100	FECHA / /	ACTIVIDAD Nº9
CURSO:	NOMBRE:	ALUMNO/A	Ejercicio 21

$120 + 290 =$	$50 + 130 + 240 =$
$250 + 370 =$	$180 + 240 =$
$20 + 130 + 80 + 240 =$	$340 + 170 =$
$540 + 270 =$	$30 + 210 + 90 =$
$420 + 290 =$	$230 + 290 =$

BLOQUE 3	SUMAS CON CENTENAS, DECENAS MENORES DE 100 Y UNIDADES IGUALES A 10	FECHA / /	ACTIVIDAD Nº10
CURSO:	NOMBRE:	ALUMNO/A	Ejercicio 11

$331 + 329 =$	$344 + 516 =$
$612 + 318 =$	$557 + 423 =$
$502 + 488 =$	$754 + 126 =$
$269 + 521 =$	$359 + 431 =$
$244 + 716 =$	$272 + 618 =$

BLOQUE 3	SUMAS CON CENTENAS, DECENAS MENORES DE 100 Y UNIDADES IGUALES A 10	FECHA / /	ACTIVIDAD Nº10
CURSO:	NOMBRE:	ALUMNO/A	Ejercicio 12

341 + 639 =	315 + 524 + 221 =
128 + 632 =	244 + 14 + 532 =
163 + 527 =	203 + 413 + 154 =
766 + 224 =	449 + 211 + 230 =
555 + 215 =	137 + 232 + 411 =

BLOQUE 3	SUMAS CON CENTENAS, DECENAS MENORES DE 100 Y UNIDADES IGUALES A 10	FECHA / /	ACTIVIDAD Nº10
CURSO:	NOMBRE:	ALUMNO/A	Ejercicio 13

214 + 126 =	337 + 253 =
517 + 263 =	126 + 314 =
316 + 111 + 93 =	154 + 33 + 133 =
404 + 214 + 52 =	31 + 236 + 353 =
186 + 213 + 301 =	205 + 71 + 174 =

BLOQUE 3	SUMAS CON CENTENAS, DECENAS MENORES DE 100 Y UNIDADES IGUALES A 10	FECHA / /	ACTIVIDAD Nº10
CURSO:	NOMBRE:	ALUMNO/A	Ejercicio 14

135 + 215 =	143 + 127 =
264 + 226 =	217 + 123 =
328 + 142 =	134 + 256 =
429 + 121 =	242 + 104 + 134 =
132 + 321 + 227 =	101 + 205 + 184 =

BLOQUE 3	SUMAS CON CENTENAS, DECENAS MENORES DE 100 Y UNIDADES IGUALES A 10	FECHA / /	ACTIVIDAD Nº10
CURSO:	NOMBRE:	ALUMNO/A	Ejercicio 15

$125 + 475 =$	$355 + 235 =$
$318 + 362 =$	$625 + 145 =$
$52 + 236 + 102 =$	$171 + 419 =$
$33 + 310 + 177 =$	$72 + 515 + 313 =$
$12 + 250 + 438 =$	$50 + 529 + 211 =$

BLOQUE 3	SUMAS CON CENTENAS, DECENAS MENORES DE 100 Y UNIDADES IGUALES A 10	FECHA / /	ACTIVIDAD Nº10
CURSO:	NOMBRE:	ALUMNO/A	Ejercicio 16

418 + 262 =	236 + 144 =
709 + 241 =	181 + 409 =
372 + 118 =	433 + 247 =
822 + 168 =	761 + 119 =
846 + 134 =	653 + 237 =

BLOQUE 3	SUMAS CON CENTENAS, DECENAS MENORES DE 100 Y UNIDADES IGUALES A 10	FECHA / /	ACTIVIDAD Nº10
CURSO:	NOMBRE:	ALUMNO/A	Ejercicio 17

152 + 238 =	544 + 226 =
611 + 54 + 25 =	732 + 20 + 18 =
325 + 212 + 33 =	449 + 210 + 11 =
125 + 33 + 222 =	106 + 22 + 112 =
241 + 135 + 204 =	111 + 222 + 337 =

BLOQUE 3	SUMAS CON CENTENAS, DECENAS MENORES DE 100 Y UNIDADES IGUALES A 10	FECHA / /	ACTIVIDAD Nº10
CURSO:	NOMBRE:	ALUMNO/A	Ejercicio 18

56 + 513 + 111 =	329 + 200 + 131 =
215 + 115 =	213 + 117 + 330 =
234 + 126 =	427 + 123 =
345 + 125 + 110 =	237 + 210 + 333 =
654 + 233 + 123 =	345 + 333 + 222 =

BLOQUE 3	SUMAS CON CENTENAS, DECENAS MENORES DE 100 Y UNIDADES IGUALES A 10	FECHA / /	ACTIVIDAD Nº10
CURSO:	NOMBRE:	ALUMNO/A	Ejercicio 19

$318 + 362 =$	$625 + 145 =$
$52 + 236 + 102 =$	$171 + 419 =$
$64 + 314 + 112 =$	$212 + 225 + 53 =$
$505 + 123 + 12 =$	$534 + 156 =$
$432 + 234 + 34 =$	$249 + 141 =$

BLOQUE 3	SUMAS CON CENTENAS, DECENAS MENORES DE 100 Y UNIDADES IGUALES A 10	FECHA / /	ACTIVIDAD Nº10
CURSO:	NOMBRE:	ALUMNO/A	Ejercicio 20

$165 + 225 =$	$11 + 215 + 144 =$
$133 + 237 =$	$15 + 254 + 121 =$
$428 + 222 =$	$16 + 140 + 734 =$
$559 + 331 =$	$148 + 321 + 21 =$
$123 + 547 =$	$257 + 222 + 101 =$

BLOQUE 3	SUMAS CON CENTENAS, DECENAS MENORES DE 100 Y UNIDADES IGUALES A 10	FECHA / /	ACTIVIDAD Nº10
CURSO:	NOMBRE:	ALUMNO/A	Ejercicio 21

$123 + 227 =$	$281 + 109 =$
$342 + 22 + 136 =$	$234 + 516 =$
$214 + 23 + 313 =$	$654 + 126 =$
$333 + 117 =$	$209 + 21 =$
$453 + 23 + 14 =$	$124 + 231 + 22 + 103 =$

BLOQUE 3	SUMAS CON CENTENAS, DECENAS MAYORES QUE 100 Y UNIDADES IGUALES A 10	FECHA / /	ACTIVIDAD Nº11
CURSO:	NOMBRE:	ALUMNO/A	Ejercicio 11

$237 + 83 =$	$798 + 52 =$
$366 + 354 =$	$233 + 487 =$
$412 + 598 =$	$684 + 236 =$
$519 + 391 =$	$835 + 685 =$
$184 + 91 + 306 =$	$252 + 24 + 444 =$

BLOQUE 3	SUMAS CON CENTENAS, DECENAS MAYORES QUE 100 Y UNIDADES IGUALES A 10	FECHA / /	ACTIVIDAD Nº11
CURSO:	NOMBRE:	ALUMNO/A	Ejercicio 12

189 + 531 =	178 + 222 + 570 =
288 + 362 =	328 + 291 + 111 =
647 + 293 =	287 + 212 + 231 =
146 + 694 =	376 + 312 + 232 =
265 + 485 =	315 + 273 + 192 =

BLOQUE 3	SUMAS CON CENTENAS, DECENAS MAYORES QUE 100 Y UNIDADES IGUALES A 10	FECHA / /	ACTIVIDAD Nº11
CURSO:	NOMBRE:	ALUMNO/A	Ejercicio 13

354 + 166 =	291 + 179 =
364 + 86 =	91 + 139 =
364 + 133 + 243 =	275 + 142 + 263 =
34 + 62 + 174 =	291 + 134 + 205 =
183 + 234 + 303 =	45 + 74 + 351 =

BLOQUE 3	SUMAS CON CENTENAS, DECENAS MAYORES QUE 100 Y UNIDADES IGUALES A 10	FECHA / /	ACTIVIDAD Nº11
CURSO:	NOMBRE:	ALUMNO/A	Ejercicio 14

$275 + 165 =$	$164 + 266 =$
$283 + 147 =$	$256 + 184 =$
$158 + 282 =$	$230 + 148 + 572 =$
$245 + 44 + 441 =$	$125 + 373 + 252 =$
$186 + 32 + 352 =$	$316 + 50 + 474$

BLOQUE 3	SUMAS CON CENTENAS, DECENAS MAYORES QUE 100 Y UNIDADES IGUALES A 10	FECHA / /	ACTIVIDAD Nº11
CURSO:	NOMBRE:	ALUMNO/A	Ejercicio 15

$168 + 362 =$	$77 + 282 + 501 =$
$791 + 149 =$	$431 + 17 + 282 =$
$668 + 282 =$	$322 + 24 + 574 =$
$729 + 191 =$	$426 + 92 + 342 =$
$597 + 243 =$	$222 + 95 + 473 =$

BLOQUE 3	SUMAS CON CENTENAS, DECENAS MAYORES QUE 100 Y UNIDADES IGUALES A 10	FECHA / /	ACTIVIDAD Nº11
CURSO:	NOMBRE:	ALUMNO/A	Ejercicio 16

468 + 262 =	276 + 144 =
279 + 241 =	191 + 419 =
362 + 168 =	433 + 297 =
692 + 168 =	761 + 159 =
396 + 134 =	683 + 237 =

BLOQUE 3	SUMAS CON CENTENAS, DECENAS MAYORES QUE 100 Y UNIDADES IGUALES A 10	FECHA / /	ACTIVIDAD Nº11
CURSO:	NOMBRE:	ALUMNO/A	Ejercicio 17

$155 + 375 =$	$648 + 282 =$
$410 + 59 + 71 =$	$432 + 75 + 33 =$
$416 + 233 + 81 =$	$349 + 250 + 31 =$
$654 + 65 + 241 =$	$545 + 142 + 143 =$
$605 + 194 + 51 =$	$317 + 483 + 170 =$

BLOQUE 3	SUMAS CON CENTENAS, DECENAS MAYORES QUE 100 Y UNIDADES IGUALES A 10	FECHA / /	ACTIVIDAD Nº11
CURSO:	NOMBRE:	ALUMNO/A	Ejercicio 18

$14 + 86 + 120 =$	$88 + 130 + 42 =$
$67 + 210 + 43 =$	$88 + 22 + 40 =$
$39 + 430 + 161 =$	$553 + 77 + 200 =$
$99 + 110 + 11 =$	$25 + 585 + 230 =$
$120 + 75 + 665 =$	$164 + 144 + 132 =$

BLOQUE 3	SUMAS CON CENTENAS, DECENAS MAYORES QUE 100 Y UNIDADES IGUALES A 10	FECHA / /	ACTIVIDAD Nº11
CURSO:	NOMBRE:	ALUMNO/A	Ejercicio 19

168 + 362 =	791 + 149 =
77 + 282 + 501 =	431 + 17 + 282 =
267 + 101 + 62 =	153 + 377 =
365 + 284 + 151 =	362 + 238 =
456 + 144 =	366 + 174 =

BLOQUE 3	SUMAS CON CENTENAS, DECENAS MAYORES QUE 100 Y UNIDADES IGUALES A 10	FECHA / /	ACTIVIDAD Nº11
CURSO:	NOMBRE:	ALUMNO/A	Ejercicio 20

$254 + 141 + 265 =$	$524 + 141 + 445 =$
$26 + 141 + 93 =$	$26 + 141 + 353 =$
$178 + 450 + 112 =$	$257 + 232 + 191 =$
$651 + 254 + 15 =$	$451 + 54 + 255 =$
$246 + 184 =$	$42 + 145 + 353 =$

BLOQUE 3	SUMAS CON CENTENAS, DECENAS MAYORES QUE 100 Y UNIDADES IGUALES A 10	FECHA / /	ACTIVIDAD Nº11
CURSO:	NOMBRE:	ALUMNO/A	Ejercicio 21

353 + 167 =	299 + 21 =
453 + 73 + 14 =	174 + 231 + 22 + 103 =
193 + 227 =	281 + 169 =
382 + 22 + 136 =	274 + 546 =
244 + 23 + 373 =	654 + 176 =

BLOQUE 4	SUMAS CON CENTENAS, DECENAS IGUALES A 100 Y UNIDADES MAYORES DE 10	FECHA / /	ACTIVIDAD Nº12
CURSO:	NOMBRE:	ALUMNO/A	Ejercicio 11

$222 + 308 + 86 =$	$456 + 457 =$
$338 + 320 + 55 =$	$289 + 324 =$
$433 + 179 =$	$447 + 325 + 40 =$
$688 + 228 =$	$559 + 6 + 251 =$
$674 + 138 =$	$141 + 461 + 9 =$

BLOQUE 4	SUMAS CON CENTENAS, DECENAS IGUALES A 100 Y UNIDADES MAYORES DE 10	FECHA / /	ACTIVIDAD Nº12
CURSO:	NOMBRE:	ALUMNO/A	Ejercicio 12

113 + 298 =	116 + 94 =
134 + 378 =	178 + 35 =
165 + 448 =	266 + 45 =
228 + 286 =	329 + 86 =
398 + 219 =	455 + 59 =

BLOQUE 4	SUMAS CON CENTENAS, DECENAS IGUALES A 100 Y UNIDADES MAYORES DE 10	FECHA / /	ACTIVIDAD Nº12
CURSO:	NOMBRE:	ALUMNO/A	Ejercicio 13

234 + 179 =	425 + 88 =
515 + 199 =	788 + 23 =
364 + 147 =	188 + 25 =
355 + 155 =	321 + 189 =
666 + 144 =	33 + 777 =

BLOQUE 4	SUMAS CON CENTENAS, DECENAS IGUALES A 100 Y UNIDADES MAYORES DE 10	FECHA / /	ACTIVIDAD Nº12
CURSO:	NOMBRE:	ALUMNO/A	Ejercicio 14

486 + 229 =	692 + 119 =
355 + 54 + 2 =	738 + 75 + 7 =
172 + 218 + 14 =	641 + 258 + 18 =
261 + 26 + 524 =	443 + 55 + 318 =
431 + 226 + 253 =	126 + 224 + 364 =

BLOQUE 4	SUMAS CON CENTENAS, DECENAS IGUALES A 100 Y UNIDADES MAYORES DE 10	FECHA / /	ACTIVIDAD Nº12
CURSO:	NOMBRE:	ALUMNO/A	Ejercicio 15

154 + 259 =	205 + 386 + 124 =
287 + 327 =	265 + 341 + 106 =
642 + 369 =	433 + 551 + 327 =
125 + 244 + 345 =	423 + 574 + 115 =
627 + 161 + 325 =	474 + 21 + 116 =

BLOQUE 4	SUMAS CON CENTENAS, DECENAS IGUALES A 100 Y UNIDADES MAYORES DE 10	FECHA / /	ACTIVIDAD Nº12
CURSO:	NOMBRE:	ALUMNO/A	Ejercicio 16

$234 + 477 =$	$345 + 369 =$
$23 + 158 + 25 =$	$578 + 334 =$
$239 + 178 =$	$378 + 134 =$
$424 + 187 =$	$24 + 87 + 503 =$
$190 + 18 + 204 =$	$321 + 458 + 165 =$

BLOQUE 4	SUMAS CON CENTENAS, DECENAS MAYORES DE 100 Y UNIDADES MAYORES DE 10	FECHA / /	ACTIVIDAD Nº13
CURSO:	NOMBRE:	ALUMNO/A	Ejercicio 11

$589 + 245 =$	$159 + 763 =$
$745 + 272 + 17 =$	$182 + 359 =$
$48 + 650 + 193 =$	$193 + 89 =$
$156 + 569 =$	$169 + 470 =$
$688 + 125 =$	$288 + 599 =$

BLOQUE 4	SUMAS CON CENTENAS, DECENAS MAYORES DE 100 Y UNIDADES MAYORES DE 10	FECHA / /	ACTIVIDAD Nº13
CURSO:	NOMBRE:	ALUMNO/A	Ejercicio 12

193 + 238 =	9 + 199 + 246 =
127 + 195 = 322	6 + 223 + 299 =
255 + 368 =	3 + 263 + 268 =
333 + 398 =	8 + 391 + 389 =
428 + 497 =	5 + 466 + 495 =

BLOQUE 4	SUMAS CON CENTENAS, DECENAS MAYORES DE 100 Y UNIDADES MAYORES DE 10	FECHA / /	ACTIVIDAD Nº13
CURSO:	NOMBRE:	ALUMNO/A	Ejercicio 13

486 + 135 =	594 + 127 =
77 + 666 =	88 + 555 =
33 + 888 =	777 + 44 =
222 + 499 =	374 + 549 =
789 + 165 =	432 + 389 =

BLOQUE 4	SUMAS CON CENTENAS, DECENAS MAYORES DE 100 Y UNIDADES MAYORES DE 10	FECHA / /	ACTIVIDAD Nº13
CURSO:	NOMBRE:	ALUMNO/A	Ejercicio 14

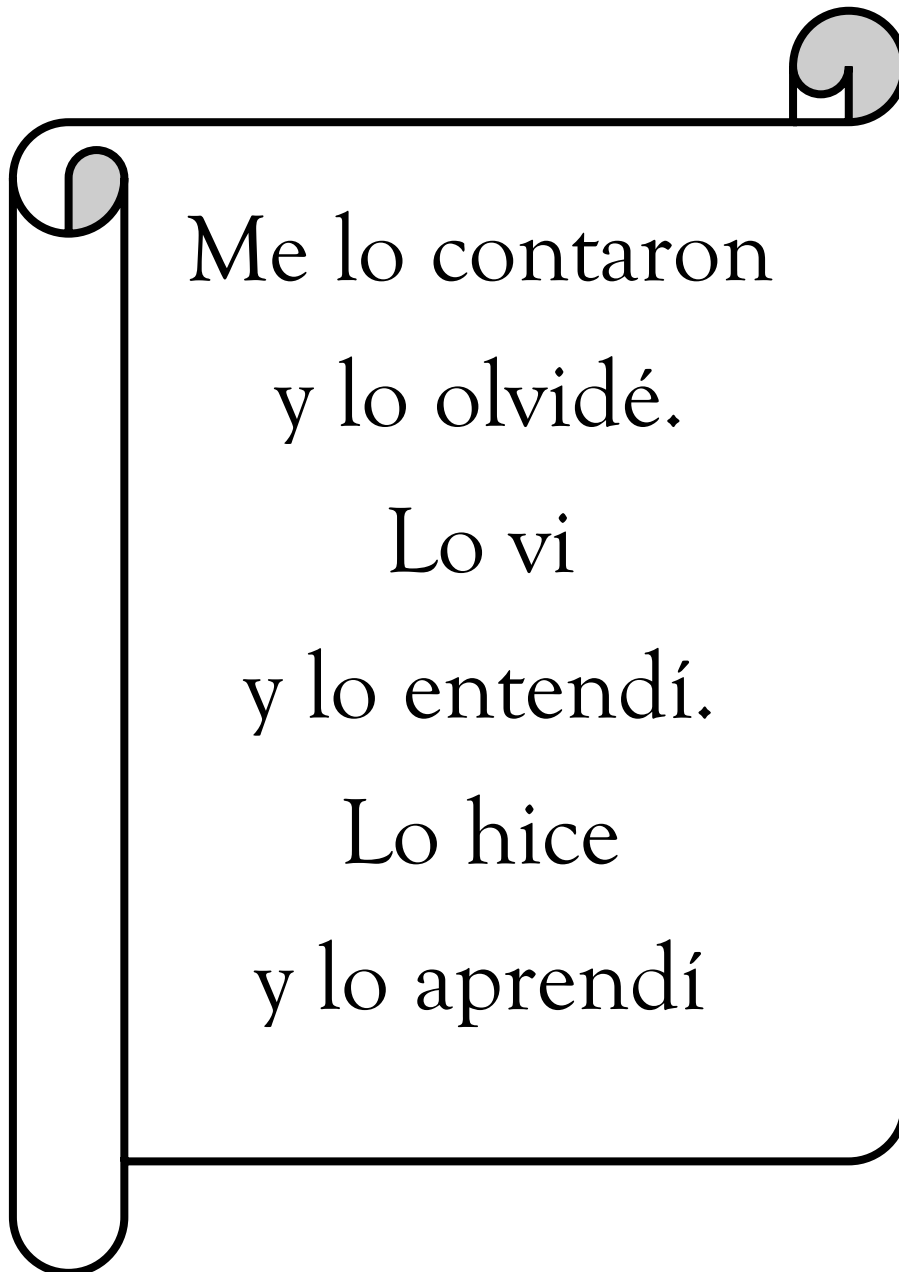
$539 + 283 =$	$367 + 258 =$
$746 + 73 + 5 =$	$826 + 97 + 2 =$
$369 + 152 + 23 =$	$262 + 366 + 18 =$
$546 + 88 + 145 =$	$709 + 95 + 126 =$
$231 + 599 + 126 =$	$465 + 276 + 128 =$

BLOQUE 4	SUMAS CON CENTENAS, DECENAS MAYORES DE 100 Y UNIDADES MAYORES DE 10	FECHA / /	ACTIVIDAD Nº13
CURSO:	NOMBRE:	ALUMNO/A	Ejercicio 15

254 + 287 =	541 + 265 + 147 =
392 + 229 =	222 + 585 157 =
468 + 155 =	509 + 291 142 =
446 + 125 + 158 =	264 + 158 =
294 + 257 =	147 + 258 + 195 =

BLOQUE 4	SUMAS CON CENTENAS, DECENAS MAYORES DE 100 Y UNIDADES MAYORES DE 10	FECHA / /	ACTIVIDAD Nº13
CURSO:	NOMBRE:	ALUMNO/A	Ejercicio 16

239 + 198 =	398 + 134 =
464 + 187 =	24 + 87 + 543 =
190 + 18 + 254 =	361 + 438 + 165 =
264 + 477 =	365 + 369 =
23 + 188 + 25 =	688 + 144 =



Proverbio Chino